



پویش

پویش؛ پیام‌آور دانایی

شبیه‌ساز آزمون ورودی  
تیزهوشان و نمونه‌دولتی نهم

۱۴ آزمون دو دفترچه‌ای

نعم  
تسا. این. تسا

یه دانش آموز تیزهوش برای اینکه بتونه بترکونه،  
باید ابزارش رو هم داشته باشه!

برای دیدن پاسخنامه تشریحی هر آزمون این QR کد را اسکن کنید.



# فهرست

۱۹۷ دفترچه ۱ **آزمون ۹**

۲۰۹ دفترچه ۲

۲۲۱ دفترچه ۱ **آزمون ۱۰**

۲۳۵ دفترچه ۲

۲۴۵ دفترچه ۱ **آزمون ۱۱**

۲۵۹ دفترچه ۲

۲۶۹ دفترچه ۱ **آزمون ۱۲**

۲۸۱ دفترچه ۲

۲۹۳ دفترچه ۱ **آزمون ۱۳**

۳۰۷ دفترچه ۲

۳۱۷ دفترچه ۱ **آزمون ۱۴**

۳۳۱ دفترچه ۲

۳۴۱ **پاسخنامه کلیدی**



**پاسخنامه تشریحی**

۷ دفترچه ۱ **آزمون ۱**

۱۹ دفترچه ۲

۲۹ دفترچه ۱ **آزمون ۲**

۴۳ دفترچه ۲

۵۳ دفترچه ۱ **آزمون ۳**

۶۵ دفترچه ۲

۷۷ دفترچه ۱ **آزمون ۴**

۸۹ دفترچه ۲

۱۰۱ دفترچه ۱ **آزمون ۵**

۱۱۳ دفترچه ۲

۱۲۵ دفترچه ۱ **آزمون ۶**

۱۳۹ دفترچه ۲

۱۴۹ دفترچه ۱ **آزمون ۷**

۱۶۳ دفترچه ۲

۱۷۳ دفترچه ۱ **آزمون ۸**

۱۸۵ دفترچه ۲



شبیه‌ساز آزمون ورودی تیزهوشان و نمونه دولتی

# شبیه‌ساز آزمون ورودی پایه دهم مدارس استعدادهای درخشان و نمونه دولتی سراسر کشور

دفترچه شماره یک: استعداد تحصیلی

نام و نام خانوادگی:

تعداد پرسش	ضریب	عنوان درس
۱۰	۲	قرآن و معارف اسلامی
۱۵	۲	زبان و ادبیات فارسی
۱۰	۲	مطالعات اجتماعی
۱۰	۱	عربی
۱۵	۳	علوم تجربی
۱۵	۳	ریاضیات

ساعت برگزاری آزمون: .....

تاریخ برگزاری آزمون: .....

تعداد پرسش‌ها: ۷۵ سؤال (ردیف ۱ تا ۷۵)

مدت پاسخ‌گویی به پرسش‌ها: ۷۵ دقیقه

تذکر مهم:

- به ازای هر پاسخ صحیح «۳» نمره مثبت و به ازای هر پاسخ غلط «۱» نمره منفی برای داوطلب در نظر گرفته می‌شود.
- برای پرسش‌های بدون پاسخ، نمره‌ای در نظر گرفته نمی‌شود.
- چنانچه داوطلب در هر پرسش بیش از یک گزینه را علامت زده باشد، «۱» نمره منفی برای او در نظر گرفته می‌شود.

۱- با توجه به حدیث شریف رسول خدا (ص) «ما عَرَفْنَاكَ حَقَّ مَعْرِفَتِكَ» کدام گزینه صحیح تر و کامل تر است؟

(۱) انسان هرگز و در هیچ شرایطی نمی‌تواند خداوند را به طور کامل بشناسد.

(۲) تفکر صحیح، انسان را در حد توان و فهمش به شناختی محدود از خدا می‌رساند.

(۳) شناخت خداوند از طریق شناخت خود میسر می‌شود و ابتدا باید خود را شناخت.

(۴) یکی از راه‌های شناخت خداوند، تفکر در قرآن و جهان هستی و صفات او است.

۲- رابطه «علم و آگاهی» با «شناخت»، مانند رابطه «ایمان» با ..... است.

(۱) اعتماد (۲) نجات (۳) عبادت (۴) عمل

۳- با توجه به عبارت قرآنی «أَفَكَلَّمَا جَاءَكُمْ رَسُولٌ بِمَا لَا تَهْوَىٰ أَنفُسُكُمْ اسْتَكْبَرْتُمْ فَفَرِيقًا كَذَّبْتُمْ وَ فَرِيقًا تَقْتُلُونَ» علت سرکشی، انکار و کشتن برخی از پیامبران توسط گروهی از مردم چه بود؟

(۱) پیروی از هوای نفس و تکبر (۲) ترساندن پیامبران و یاران‌شان

(۳) اعلام جنگ با خداوند (۴) تثبیت موقعیت خود

۴- براساس حدیثی از رسول خدا (ص) کدام یک از موارد زیر از شرایط ظهور آخرین منجی، حضرت مهدی (عج) نیست؟

(۱) گرفتار شدن مردم به اختلاف و تزلزل (۲) پایان یافتن عمر جهان

(۳) پر شدن زمین از جور و ستم (۴) فراگیر شدن بی‌عدالتی

۵- توصیف زیر مربوط به کدام گزینه است؟

«دانا، شجاع، مدیر و مدبر است و با در نظر گرفتن مصلحت جامعه اسلامی، از تمام توان برای پاسداری از دین و اجرای احکام الهی در جامعه استفاده می‌کند تا دشمنان نتوانند مانع اجرای دستورات الهی شوند.»

(۱) حاکم جامعه (۲) فقیه جامع‌الشرایط

(۳) ولایت فقیه (۴) امیرالمؤمنین

۶- به رعایت اصولی که وضوی شخص از نظر دین به درستی انجام شود، ..... گفته می‌شود.

(۱) احکام اصلی (۲) اقامه

(۳) نیت (۴) شرایط وضوی صحیح

۷- کدام گزینه با توصیف ذکرشده در ارتباط است؟ «دوست بد با خنده از کنار گناهان انسان می‌گذرد و او را به ادامه نگاه تشویق می‌کند.»

(۱) نزدیک‌تر از خویشاوند

(۲) پاره‌ای از آتش

(۳) ترسناک‌تر از هر چیز

(۴) شمشیری زیبا ولی زهرآلود

۸- آیه شریفه ﴿لَوْ نَشَاءُ جَعَلْنَاهُ أَجَاًا فَلَوْلَا تَشْكُرُونَ﴾ چه نکته مهمی را بیان می‌کند؟

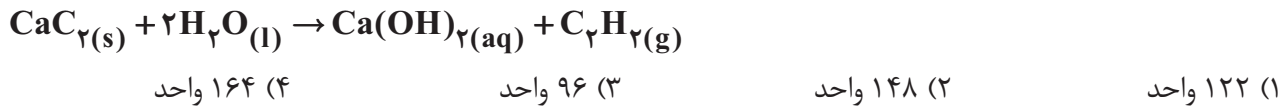
(۱) خداوند هر کاری را که بخواهد انجام می‌دهد.

(۲) چرا به خاطر نعمت‌های خداوند شکرگزار نیستید؟

(۳) طعم و مزه هر چیزی در جهان توسط خدا تعیین می‌شود.

(۴) انسان خودش طعم زندگی را برای خود تلخ می‌کند.

۴۶- در واکنش ۱۲۸ واحد کلسیم کاربید با مقدار آب کافی، در ظرف در باز جرم نهایی محتویات ظرف چقدر خواهد بود؟  
(جرم هر واحد:  $H = 1, O = 16, Ca = 40, C = 12$ )



۴۷- کدام یک در دمای اتاق به شکل مایع است؟

- (۱) هیدروکربن سیرشده‌ای که ۱۰ پیوند اشتراکی دارد.
- (۲) هیدروکربنی که دو پیوند دوگانه دارد و نسبت هیدروژن به کربن آن  $\frac{5}{3}$  است.
- (۳) هیدروکربن سیرشده‌ای که اختلاف کربن و هیدروژن آن ۶ است.
- (۴) هیدروکربنی که ۶ پیوند  $C-H$  در ساختار خود دارد.

۴۸- کدام مقایسه در رابطه با دو نمک  $A_3B_3$  و  $C_3D$  صحیح است؟

- (۱) رسانایی نمک  $A_3B_3$  قطعاً بیشتر از  $C_3D$  در آب است.
- (۲) رسانایی هر دو به واسطه یون‌های متحرک انجام می‌شود.
- (۳) نمک  $C_3D$  با عبور الکترون آزاد از خود، در حالت جامد نیز رسانا است.
- (۴) فلز A در هر دو حالت مایع (مذاب) و جامد رسانای جریان الکتریسیته است.

۴۹- تعداد هیدروژن در یک هیدروکربن با ۷ کربن، ۲ پیوند دوگانه و یک اتم Cl برابر با عدد اتمی عنصر X است. کدام گزینه X را به درستی توصیف می‌کند؟

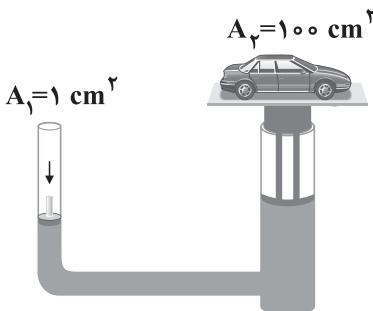
- (۱) فلزی براق است که به راحتی با قیچی بریده می‌شود.
- (۲) شکل مولکولی آن فراوان‌ترین دواتمی هواکره است.
- (۳) گازی سمی و زردرنگ است که در واکنش با فلز سدیم، ترکیبی یونی تشکیل می‌دهد.
- (۴) در دادوستد الکترونی، شعاع اتمی آن افزایش می‌یابد.

۵۰- کدام مورد در رابطه با ماشین‌ها صحیح است؟

- (۱) با کاهش میزان انرژی مورد نیاز موجب سهولت در انجام کارها می‌شوند.
- (۲) در انبردستی که با نیروی ۱ N گردویی با استقامت ۱۵ N را می‌شکنند، می‌توان گفت نسبت طول دسته به کل انبر  $\frac{15}{16}$  است.
- (۳) در مورد سفت کردن مهره با آچار، بازوی مقاوم در راستای طول مهره است.
- (۴) هرچه تعداد دندان‌های یک چرخ‌دنده نسبت به چرخ‌دنده متصل به آن کمتر باشد گشتاور تندتر می‌شود.

۵۱- در بالابر هیدرولیکی زیر، به دنبال اعمال نیروی ۴ نیوتونی به پیستون کوچک کدام گزینه صحیح است؟

- (۱) این بالابر قطعاً می‌تواند جسمی ۴۰ کیلوگرمی را بلند کند.
- (۲) می‌توان گفت مزیت مکانیکی سامانه عبارت است از جابه‌جایی پیستون کوچک به بزرگ.
- (۳) فشار درون مایع بعد از اعمال نیرو به ۴۰ کیلوپاسکال می‌رسد.
- (۴) مقدار مایع جابه‌جاشده در سمت پیستون کوچک بیشتر است.





۶۱- اگر  $A_1 = \{1\}$  و  $A_2 = \{2, 3\}$  و  $A_3 = \{4, 5, 6\}$  و... باشند، مجموع بزرگ‌ترین و کوچک‌ترین عضو مجموعه  $A_3$  کدام است؟

- |         |         |         |         |
|---------|---------|---------|---------|
| ۲۹۹ (۴) | ۴۰۱ (۳) | ۳۹۹ (۲) | ۲۰۱ (۱) |
|---------|---------|---------|---------|

۶۲- در یک کلاس ۳۵ نفره، ۷ نفر در درس‌های ریاضی و علوم، ۵ نفر در درس‌های ریاضی و علوم و فارسی، ۸ نفر در درس‌های ریاضی و فارسی، ۵ نفر فقط در درس ریاضی، ۹ نفر فقط در درس علوم و ۱۴ نفر در درس فارسی نمره ۲۰ گرفته‌اند. چند نفر در هیچ‌کدام از این سه درس ۲۰ نشده‌اند؟

- |       |       |       |       |
|-------|-------|-------|-------|
| ۴ (۴) | ۵ (۳) | ۶ (۲) | ۷ (۱) |
|-------|-------|-------|-------|

۶۳- در پرتاب یک تاس اگر عدد یک بیاید، می‌توانیم یک تاس دیگر پرتاب کنیم، در غیر این صورت باید دو سکه پرتاب کنیم. با کدام احتمال حداقل یک سکه «رو» می‌آید؟

- |                    |                   |                   |                   |
|--------------------|-------------------|-------------------|-------------------|
| $\frac{5}{12}$ (۴) | $\frac{3}{4}$ (۳) | $\frac{5}{8}$ (۲) | $\frac{1}{3}$ (۱) |
|--------------------|-------------------|-------------------|-------------------|

۶۴- اعداد زیر از کوچک به بزرگ و از چپ به راست مرتب شده‌اند. فاصله هر دو عدد متوالی یکسان است. مجموع صورت و مخرج عدد  $b$  کدام است؟

- |                                  |        |        |        |        |
|----------------------------------|--------|--------|--------|--------|
| $\frac{1}{4}, a, b, \frac{1}{3}$ | ۲۴ (۴) | ۲۳ (۳) | ۴۶ (۲) | ۴۷ (۱) |
|----------------------------------|--------|--------|--------|--------|

۶۵- اگر  $a \in Q'$  و  $b \in Q$  باشد، چند تا از اعداد زیر حتماً گنگ هستند؟

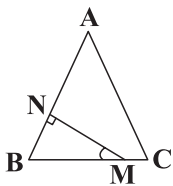
- |              |                  |           |
|--------------|------------------|-----------|
| الف) $a + b$ | ب) $a - b$       | ج) $ab^2$ |
| د) $ba^2$    | ه) $\frac{b}{a}$ | و) $a^b$  |

- |       |       |       |       |
|-------|-------|-------|-------|
| ۴ (۴) | ۳ (۳) | ۲ (۲) | ۱ (۱) |
|-------|-------|-------|-------|

۶۶- محیط یک مثلث متساوی‌الساقین ۶۰ واحد است. طول ساق آن کدام گزینه می‌تواند باشد؟

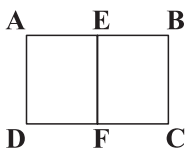
- |        |        |        |        |
|--------|--------|--------|--------|
| ۱۲ (۴) | ۲۰ (۳) | ۳۰ (۲) | ۱۵ (۱) |
|--------|--------|--------|--------|

۶۷- مثلث  $ABC$  متساوی‌الساقین است ( $AB = AC$ ). اندازه زاویه  $\widehat{BMN}$  برابر کدام گزینه است؟



- |                                  |                                  |
|----------------------------------|----------------------------------|
| $90 - \frac{\widehat{A}}{2}$ (۲) | $90 - \frac{\widehat{B}}{2}$ (۱) |
| $\frac{\widehat{A}}{2}$ (۴)      | $180 - \widehat{A}$ (۳)          |

۶۸- در شکل زیر دو مستطیل  $ABCD$  و  $AEFD$  با هم متشابه‌اند. اگر  $E$  وسط  $AB$  باشد، نسبت طول به عرض مستطیل  $ABCD$  کدام است؟



- |       |                 |
|-------|-----------------|
| ۲ (۲) | $\sqrt{2}$ (۱)  |
| ۴ (۴) | $2\sqrt{2}$ (۳) |



شبیه‌ساز آزمون ورودی تیزهوشان و نمونه دولتی

# شبیه‌ساز آزمون ورودی پایه دهم مدارس استعدادهای درخشان و نمونه دولتی سراسر کشور

دفترچه شماره دو: استعداد تحلیلی (هوش)

نام و نام خانوادگی:

ساعت برگزاری آزمون: .....

تاریخ برگزاری آزمون: .....

تعداد پرسش‌ها: ۵۰ سؤال (ردیف ۷۶ تا ۱۲۵)

مدت پاسخ‌گویی به پرسش‌ها: ۵۰ دقیقه

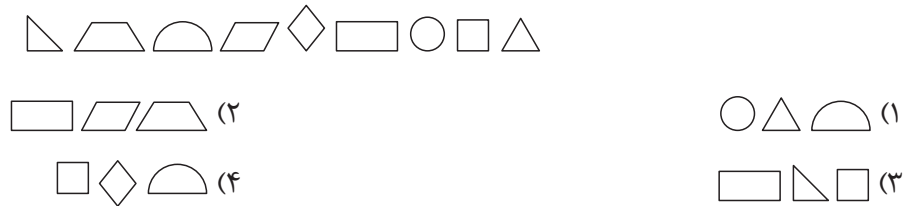
تذکر مهم:

- به ازای هر پاسخ صحیح «۳» نمره مثبت و به ازای هر پاسخ غلط «۱» نمره منفی برای داوطلب در نظر گرفته می‌شود.
- برای پرسش‌های بدون پاسخ، نمره‌ای در نظر گرفته نمی‌شود.
- چنانچه داوطلب در هر پرسش بیش از یک گزینه را علامت زده باشد، «۱» نمره منفی برای او در نظر گرفته می‌شود.

۷۶- در مصراع «بحر آفرید و برّ و درختان و آدمی» رابطه‌ای که بین واژه اول با واژه چهارم مصراع برقرار است، در کدام یک از ابیات زیر نیامده است؟

- |  |  |
|--|--|
| ۱) بیدار شو ای دیده که ایمن نتوان بود        | زین سیل دمدام که در این منزل خواب است  |
| ۲) شادی مجلسیان در قدم و مقدم توست           | جای غم باد، مر آن دل که نخواهد شادت    |
| ۳) صبا به لطف بگو آن غزال رعنا را            | که سر به کوه و بیابان تو داده‌ای ما را |
| ۴) نصیحت گوش کن جانا که از جان دوست تر دارند | جوانان سعادت‌مند پند پیر دانا را       |

۷۷- اگر هرکدام از اشکال هندسی زیر، نماینده یک حرف از الفبای فارسی باشند و این چیدمان از راست به چپ مرتب شده باشد و شکل لوزی نماینده حرف «ث» باشد، کدام گزینه واژه معناداری نساخته است؟



۷۸- مادر بزرگ اسما به تازگی صاحب نوه جدیدی شده است. اگر اسما تک‌فرزند باشد و پدر اسما نیز تک‌فرزند باشد، نوه جدید چه نسبتی با اسما می‌تواند داشته باشد؟

- ۱) دخترخاله، دخترعمه
- ۲) پسردایی، پسرعمو
- ۳) پسرخاله، دختردایی
- ۴) پسرعمه، دخترخاله

۷۹- مترادف همه واژه‌های داده‌شده در صورت مرتب شدن، درست هستند به جز .....

- ۱) میغ: ا، ح، ب، س
- ۲) رنگین‌کمان: و، ح، ق، ق، س، ز
- ۳) رام: ر، م، خ، س
- ۴) مستمع: ی، ا، ش، ن، د، ر، ی

۸۰- در زمان‌های قدیم که شکار حیوانات بسیار رواج داشت، یکی از امور مهمی که باید در شکار رعایت می‌شد، رعایت سکوت بود. یک شکارچی باهوش باید حواسش را جمع می‌کرد و مراقب می‌بود تا به هیچ نحوی مورد توجه حیوانات وحشی قرار نگیرد؛ اما امان از بی‌احتیاطی! گاهی یک شکارچی که حواسش به زمین و آنچه که زیر پایش قرار داشت نبود، پایش را روی دم یک حیوان وحشی می‌گذاشت و درد آن باعث می‌شد که حیوان از فرط عصبانیت به جنون برسد. آن وقت بود که دیگر هیچ راهی وجود نداشت. حالا تصور کنید دمی که پا روی آن گذاشته شده است، دم شیر باشد. برای همین است که «پا روی دم شیر گذاشتن» کنایه از ..... است.

- ۱) عصبانی شدن خود
- ۲) عصبانی کردن طرف مقابل
- ۳) عصبانی کردن همه
- ۴) بی‌احتیاطی خود



۸۱- بیت زیر، با کدام یک از ابیات داده‌شده تناسب معنایی بیشتری دارد؟

«آفاق را گردیده‌ام مهر بتان ورزیده‌ام  
 (۱) خیال در همه عالم برفت و باز آمد  
 (۲) به جهان خرم از آنم که جهان خرم از اوست  
 (۳) تو را چنان که تویی هر نظر کجا بیند؟  
 (۴) جهان جمله فروغ روی حق دان

بسیار خوبان دیده‌ام اما تو چیز دیگری»  
 که از حضور تو خوش‌تر ندید جایی را  
 عاشقم بر همه عالم که همه عالم از اوست  
 به قدر دانش خود هرکسی کند ادراک  
 حق اندر وی ز پیدایی است، پنهان

۸۲- با توجه به جدول زیر، کدام گزینه نمی‌تواند درست باشد؟

صَوْر	اشجار	ایام	نوابغ	ارجاعات	ملل	اسناد
مشاهیر	پوران	انوار	تصاویر	خطوط	حکم	اوراق

- (۱) تمام واژه‌های داده‌شده جمع مکسر هستند، به جز دو واژه که جمع نشانه‌دار است.  
 (۲) تنها یک جفت واژه هم‌خانواده در جدول آمده است.  
 (۳) واژه بالایی ستون آخر از راست و واژه پایینی ستون قبل از آن به ترتیب جمع واژه‌های «مستند» و «حکم» هستند.  
 (۴) هم‌خانواده واژه‌های منور، شهرت، تورق و رجوع در جدول آمده‌اند.

۸۳- نام هر شاعر به تعداد عدد قرن خود در جدول تکرار شده است. با توجه به تعداد جاهای خالی کدام شاعر می‌تواند در جدول قرار بگیرد؟

رودکی		حافظ	رودکی
فردوسی	حافظ	فردوسی	
حافظ		رودکی	حافظ
رودکی		حافظ	فردوسی
	حافظ		

- (۱) سعدی (۲) شهریار (۳) مولانا (۴) جامی

۸۴- کدام گزینه به جای علامت سؤال قرار می‌گیرد؟

۵	۳	۳۱	۴
۱۴	۶۲	۲	۵۶
۶۴	۵۱	۲۳	۴۶
۲	۳	۱	?

- (۱) ۴ (۲) ۳ (۳) ۸ (۴) ۵

۸۵- در ستون آخر جدول داده‌شده کدام اعداد قرار می‌گیرند؟

۱	۲	۵	۷	۸	۱۴	?
۲	۴	۸	۱۱	۳	۲۰	?

- (۱) ۴۰، ۱۸ (۲) ۱، ۸ (۳) ۲۰، ۵ (۴) ۳۰، ۱۹

آزمون ششماهه  
۱

دفترچه  
۲

۲۱



آزمون  
شماره



پیشاپه‌ماوردتاری



آزمون  
شماره

1	1 2 3 4	51	1 2 3 4	101	1 2 3 4
2	1 2 3 4	52	1 2 3 4	102	1 2 3 4
3	1 2 3 4	53	1 2 3 4	103	1 2 3 4
4	1 2 3 4	54	1 2 3 4	104	1 2 3 4
5	1 2 3 4	55	1 2 3 4	105	1 2 3 4
6	1 2 3 4	56	1 2 3 4	106	1 2 3 4
7	1 2 3 4	57	1 2 3 4	107	1 2 3 4
8	1 2 3 4	58	1 2 3 4	108	1 2 3 4
9	1 2 3 4	59	1 2 3 4	109	1 2 3 4
10	1 2 3 4	60	1 2 3 4	100	1 2 3 4
11	1 2 3 4	61	1 2 3 4	111	1 2 3 4
12	1 2 3 4	62	1 2 3 4	112	1 2 3 4
13	1 2 3 4	63	1 2 3 4	113	1 2 3 4
14	1 2 3 4	64	1 2 3 4	114	1 2 3 4
15	1 2 3 4	65	1 2 3 4	115	1 2 3 4
16	1 2 3 4	66	1 2 3 4	116	1 2 3 4
17	1 2 3 4	67	1 2 3 4	117	1 2 3 4
18	1 2 3 4	68	1 2 3 4	118	1 2 3 4
19	1 2 3 4	69	1 2 3 4	119	1 2 3 4
20	1 2 3 4	70	1 2 3 4	120	1 2 3 4
21	1 2 3 4	71	1 2 3 4	121	1 2 3 4
22	1 2 3 4	72	1 2 3 4	122	1 2 3 4
23	1 2 3 4	73	1 2 3 4	123	1 2 3 4
24	1 2 3 4	74	1 2 3 4	124	1 2 3 4
25	1 2 3 4	75	1 2 3 4	125	1 2 3 4
26	1 2 3 4	76	1 2 3 4	126	1 2 3 4
27	1 2 3 4	77	1 2 3 4	127	1 2 3 4
28	1 2 3 4	78	1 2 3 4	128	1 2 3 4
29	1 2 3 4	79	1 2 3 4	129	1 2 3 4
30	1 2 3 4	80	1 2 3 4	130	1 2 3 4
31	1 2 3 4	81	1 2 3 4	131	1 2 3 4
32	1 2 3 4	82	1 2 3 4	132	1 2 3 4
33	1 2 3 4	83	1 2 3 4	133	1 2 3 4
34	1 2 3 4	84	1 2 3 4	134	1 2 3 4
35	1 2 3 4	85	1 2 3 4	135	1 2 3 4
36	1 2 3 4	86	1 2 3 4	136	1 2 3 4
37	1 2 3 4	87	1 2 3 4	137	1 2 3 4
38	1 2 3 4	88	1 2 3 4	138	1 2 3 4
39	1 2 3 4	89	1 2 3 4	139	1 2 3 4
40	1 2 3 4	90	1 2 3 4	140	1 2 3 4
41	1 2 3 4	91	1 2 3 4	141	1 2 3 4
42	1 2 3 4	92	1 2 3 4	142	1 2 3 4
43	1 2 3 4	93	1 2 3 4	143	1 2 3 4
44	1 2 3 4	94	1 2 3 4	144	1 2 3 4
45	1 2 3 4	95	1 2 3 4	145	1 2 3 4
46	1 2 3 4	96	1 2 3 4	146	1 2 3 4
47	1 2 3 4	97	1 2 3 4	147	1 2 3 4
48	1 2 3 4	98	1 2 3 4	148	1 2 3 4
49	1 2 3 4	99	1 2 3 4	149	1 2 3 4
50	1 2 3 4	100	1 2 3 4	150	1 2 3 4



آزمون  
شماره



پیشاپه‌ماوردتاری



آزمون  
شماره

1	<input type="checkbox"/> ۱ <input type="checkbox"/> ۲ <input type="checkbox"/> ۳ <input type="checkbox"/> ۴	۵۱	<input type="checkbox"/> ۱ <input type="checkbox"/> ۲ <input type="checkbox"/> ۳ <input type="checkbox"/> ۴	۱۰۱	<input type="checkbox"/> ۱ <input type="checkbox"/> ۲ <input type="checkbox"/> ۳ <input type="checkbox"/> ۴
2	<input type="checkbox"/> ۱ <input type="checkbox"/> ۲ <input type="checkbox"/> ۳ <input type="checkbox"/> ۴	۵۲	<input type="checkbox"/> ۱ <input type="checkbox"/> ۲ <input type="checkbox"/> ۳ <input type="checkbox"/> ۴	۱۰۲	<input type="checkbox"/> ۱ <input type="checkbox"/> ۲ <input type="checkbox"/> ۳ <input type="checkbox"/> ۴
3	<input type="checkbox"/> ۱ <input type="checkbox"/> ۲ <input type="checkbox"/> ۳ <input type="checkbox"/> ۴	۵۳	<input type="checkbox"/> ۱ <input type="checkbox"/> ۲ <input type="checkbox"/> ۳ <input type="checkbox"/> ۴	۱۰۳	<input type="checkbox"/> ۱ <input type="checkbox"/> ۲ <input type="checkbox"/> ۳ <input type="checkbox"/> ۴
4	<input type="checkbox"/> ۱ <input type="checkbox"/> ۲ <input type="checkbox"/> ۳ <input type="checkbox"/> ۴	۵۴	<input type="checkbox"/> ۱ <input type="checkbox"/> ۲ <input type="checkbox"/> ۳ <input type="checkbox"/> ۴	۱۰۴	<input type="checkbox"/> ۱ <input type="checkbox"/> ۲ <input type="checkbox"/> ۳ <input type="checkbox"/> ۴
5	<input type="checkbox"/> ۱ <input type="checkbox"/> ۲ <input type="checkbox"/> ۳ <input type="checkbox"/> ۴	۵۵	<input type="checkbox"/> ۱ <input type="checkbox"/> ۲ <input type="checkbox"/> ۳ <input type="checkbox"/> ۴	۱۰۵	<input type="checkbox"/> ۱ <input type="checkbox"/> ۲ <input type="checkbox"/> ۳ <input type="checkbox"/> ۴
6	<input type="checkbox"/> ۱ <input type="checkbox"/> ۲ <input type="checkbox"/> ۳ <input type="checkbox"/> ۴	۵۶	<input type="checkbox"/> ۱ <input type="checkbox"/> ۲ <input type="checkbox"/> ۳ <input type="checkbox"/> ۴	۱۰۶	<input type="checkbox"/> ۱ <input type="checkbox"/> ۲ <input type="checkbox"/> ۳ <input type="checkbox"/> ۴
7	<input type="checkbox"/> ۱ <input type="checkbox"/> ۲ <input type="checkbox"/> ۳ <input type="checkbox"/> ۴	۵۷	<input type="checkbox"/> ۱ <input type="checkbox"/> ۲ <input type="checkbox"/> ۳ <input type="checkbox"/> ۴	۱۰۷	<input type="checkbox"/> ۱ <input type="checkbox"/> ۲ <input type="checkbox"/> ۳ <input type="checkbox"/> ۴
8	<input type="checkbox"/> ۱ <input type="checkbox"/> ۲ <input type="checkbox"/> ۳ <input type="checkbox"/> ۴	۵۸	<input type="checkbox"/> ۱ <input type="checkbox"/> ۲ <input type="checkbox"/> ۳ <input type="checkbox"/> ۴	۱۰۸	<input type="checkbox"/> ۱ <input type="checkbox"/> ۲ <input type="checkbox"/> ۳ <input type="checkbox"/> ۴
9	<input type="checkbox"/> ۱ <input type="checkbox"/> ۲ <input type="checkbox"/> ۳ <input type="checkbox"/> ۴	۵۹	<input type="checkbox"/> ۱ <input type="checkbox"/> ۲ <input type="checkbox"/> ۳ <input type="checkbox"/> ۴	۱۰۹	<input type="checkbox"/> ۱ <input type="checkbox"/> ۲ <input type="checkbox"/> ۳ <input type="checkbox"/> ۴
10	<input type="checkbox"/> ۱ <input type="checkbox"/> ۲ <input type="checkbox"/> ۳ <input type="checkbox"/> ۴	۶۰	<input type="checkbox"/> ۱ <input type="checkbox"/> ۲ <input type="checkbox"/> ۳ <input type="checkbox"/> ۴	۱۰۰	<input type="checkbox"/> ۱ <input type="checkbox"/> ۲ <input type="checkbox"/> ۳ <input type="checkbox"/> ۴
11	<input type="checkbox"/> ۱ <input type="checkbox"/> ۲ <input type="checkbox"/> ۳ <input type="checkbox"/> ۴	۶۱	<input type="checkbox"/> ۱ <input type="checkbox"/> ۲ <input type="checkbox"/> ۳ <input type="checkbox"/> ۴	۱۱۱	<input type="checkbox"/> ۱ <input type="checkbox"/> ۲ <input type="checkbox"/> ۳ <input type="checkbox"/> ۴
12	<input type="checkbox"/> ۱ <input type="checkbox"/> ۲ <input type="checkbox"/> ۳ <input type="checkbox"/> ۴	۶۲	<input type="checkbox"/> ۱ <input type="checkbox"/> ۲ <input type="checkbox"/> ۳ <input type="checkbox"/> ۴	۱۱۲	<input type="checkbox"/> ۱ <input type="checkbox"/> ۲ <input type="checkbox"/> ۳ <input type="checkbox"/> ۴
13	<input type="checkbox"/> ۱ <input type="checkbox"/> ۲ <input type="checkbox"/> ۳ <input type="checkbox"/> ۴	۶۳	<input type="checkbox"/> ۱ <input type="checkbox"/> ۲ <input type="checkbox"/> ۳ <input type="checkbox"/> ۴	۱۱۳	<input type="checkbox"/> ۱ <input type="checkbox"/> ۲ <input type="checkbox"/> ۳ <input type="checkbox"/> ۴
14	<input type="checkbox"/> ۱ <input type="checkbox"/> ۲ <input type="checkbox"/> ۳ <input type="checkbox"/> ۴	۶۴	<input type="checkbox"/> ۱ <input type="checkbox"/> ۲ <input type="checkbox"/> ۳ <input type="checkbox"/> ۴	۱۱۴	<input type="checkbox"/> ۱ <input type="checkbox"/> ۲ <input type="checkbox"/> ۳ <input type="checkbox"/> ۴
15	<input type="checkbox"/> ۱ <input type="checkbox"/> ۲ <input type="checkbox"/> ۳ <input type="checkbox"/> ۴	۶۵	<input type="checkbox"/> ۱ <input type="checkbox"/> ۲ <input type="checkbox"/> ۳ <input type="checkbox"/> ۴	۱۱۵	<input type="checkbox"/> ۱ <input type="checkbox"/> ۲ <input type="checkbox"/> ۳ <input type="checkbox"/> ۴
16	<input type="checkbox"/> ۱ <input type="checkbox"/> ۲ <input type="checkbox"/> ۳ <input type="checkbox"/> ۴	۶۶	<input type="checkbox"/> ۱ <input type="checkbox"/> ۲ <input type="checkbox"/> ۳ <input type="checkbox"/> ۴	۱۱۶	<input type="checkbox"/> ۱ <input type="checkbox"/> ۲ <input type="checkbox"/> ۳ <input type="checkbox"/> ۴
17	<input type="checkbox"/> ۱ <input type="checkbox"/> ۲ <input type="checkbox"/> ۳ <input type="checkbox"/> ۴	۶۷	<input type="checkbox"/> ۱ <input type="checkbox"/> ۲ <input type="checkbox"/> ۳ <input type="checkbox"/> ۴	۱۱۷	<input type="checkbox"/> ۱ <input type="checkbox"/> ۲ <input type="checkbox"/> ۳ <input type="checkbox"/> ۴
18	<input type="checkbox"/> ۱ <input type="checkbox"/> ۲ <input type="checkbox"/> ۳ <input type="checkbox"/> ۴	۶۸	<input type="checkbox"/> ۱ <input type="checkbox"/> ۲ <input type="checkbox"/> ۳ <input type="checkbox"/> ۴	۱۱۸	<input type="checkbox"/> ۱ <input type="checkbox"/> ۲ <input type="checkbox"/> ۳ <input type="checkbox"/> ۴
19	<input type="checkbox"/> ۱ <input type="checkbox"/> ۲ <input type="checkbox"/> ۳ <input type="checkbox"/> ۴	۶۹	<input type="checkbox"/> ۱ <input type="checkbox"/> ۲ <input type="checkbox"/> ۳ <input type="checkbox"/> ۴	۱۱۹	<input type="checkbox"/> ۱ <input type="checkbox"/> ۲ <input type="checkbox"/> ۳ <input type="checkbox"/> ۴
20	<input type="checkbox"/> ۱ <input type="checkbox"/> ۲ <input type="checkbox"/> ۳ <input type="checkbox"/> ۴	۷۰	<input type="checkbox"/> ۱ <input type="checkbox"/> ۲ <input type="checkbox"/> ۳ <input type="checkbox"/> ۴	۱۲۰	<input type="checkbox"/> ۱ <input type="checkbox"/> ۲ <input type="checkbox"/> ۳ <input type="checkbox"/> ۴
21	<input type="checkbox"/> ۱ <input type="checkbox"/> ۲ <input type="checkbox"/> ۳ <input type="checkbox"/> ۴	۷۱	<input type="checkbox"/> ۱ <input type="checkbox"/> ۲ <input type="checkbox"/> ۳ <input type="checkbox"/> ۴	۱۲۱	<input type="checkbox"/> ۱ <input type="checkbox"/> ۲ <input type="checkbox"/> ۳ <input type="checkbox"/> ۴
22	<input type="checkbox"/> ۱ <input type="checkbox"/> ۲ <input type="checkbox"/> ۳ <input type="checkbox"/> ۴	۷۲	<input type="checkbox"/> ۱ <input type="checkbox"/> ۲ <input type="checkbox"/> ۳ <input type="checkbox"/> ۴	۱۲۲	<input type="checkbox"/> ۱ <input type="checkbox"/> ۲ <input type="checkbox"/> ۳ <input type="checkbox"/> ۴
23	<input type="checkbox"/> ۱ <input type="checkbox"/> ۲ <input type="checkbox"/> ۳ <input type="checkbox"/> ۴	۷۳	<input type="checkbox"/> ۱ <input type="checkbox"/> ۲ <input type="checkbox"/> ۳ <input type="checkbox"/> ۴	۱۲۳	<input type="checkbox"/> ۱ <input type="checkbox"/> ۲ <input type="checkbox"/> ۳ <input type="checkbox"/> ۴
24	<input type="checkbox"/> ۱ <input type="checkbox"/> ۲ <input type="checkbox"/> ۳ <input type="checkbox"/> ۴	۷۴	<input type="checkbox"/> ۱ <input type="checkbox"/> ۲ <input type="checkbox"/> ۳ <input type="checkbox"/> ۴	۱۲۴	<input type="checkbox"/> ۱ <input type="checkbox"/> ۲ <input type="checkbox"/> ۳ <input type="checkbox"/> ۴
25	<input type="checkbox"/> ۱ <input type="checkbox"/> ۲ <input type="checkbox"/> ۳ <input type="checkbox"/> ۴	۷۵	<input type="checkbox"/> ۱ <input type="checkbox"/> ۲ <input type="checkbox"/> ۳ <input type="checkbox"/> ۴	۱۲۵	<input type="checkbox"/> ۱ <input type="checkbox"/> ۲ <input type="checkbox"/> ۳ <input type="checkbox"/> ۴
26	<input type="checkbox"/> ۱ <input type="checkbox"/> ۲ <input type="checkbox"/> ۳ <input type="checkbox"/> ۴	۷۶	<input type="checkbox"/> ۱ <input type="checkbox"/> ۲ <input type="checkbox"/> ۳ <input type="checkbox"/> ۴	۱۲۶	<input type="checkbox"/> ۱ <input type="checkbox"/> ۲ <input type="checkbox"/> ۳ <input type="checkbox"/> ۴
27	<input type="checkbox"/> ۱ <input type="checkbox"/> ۲ <input type="checkbox"/> ۳ <input type="checkbox"/> ۴	۷۷	<input type="checkbox"/> ۱ <input type="checkbox"/> ۲ <input type="checkbox"/> ۳ <input type="checkbox"/> ۴	۱۲۷	<input type="checkbox"/> ۱ <input type="checkbox"/> ۲ <input type="checkbox"/> ۳ <input type="checkbox"/> ۴
28	<input type="checkbox"/> ۱ <input type="checkbox"/> ۲ <input type="checkbox"/> ۳ <input type="checkbox"/> ۴	۷۸	<input type="checkbox"/> ۱ <input type="checkbox"/> ۲ <input type="checkbox"/> ۳ <input type="checkbox"/> ۴	۱۲۸	<input type="checkbox"/> ۱ <input type="checkbox"/> ۲ <input type="checkbox"/> ۳ <input type="checkbox"/> ۴
29	<input type="checkbox"/> ۱ <input type="checkbox"/> ۲ <input type="checkbox"/> ۳ <input type="checkbox"/> ۴	۷۹	<input type="checkbox"/> ۱ <input type="checkbox"/> ۲ <input type="checkbox"/> ۳ <input type="checkbox"/> ۴	۱۲۹	<input type="checkbox"/> ۱ <input type="checkbox"/> ۲ <input type="checkbox"/> ۳ <input type="checkbox"/> ۴
30	<input type="checkbox"/> ۱ <input type="checkbox"/> ۲ <input type="checkbox"/> ۳ <input type="checkbox"/> ۴	۸۰	<input type="checkbox"/> ۱ <input type="checkbox"/> ۲ <input type="checkbox"/> ۳ <input type="checkbox"/> ۴	۱۳۰	<input type="checkbox"/> ۱ <input type="checkbox"/> ۲ <input type="checkbox"/> ۳ <input type="checkbox"/> ۴
31	<input type="checkbox"/> ۱ <input type="checkbox"/> ۲ <input type="checkbox"/> ۳ <input type="checkbox"/> ۴	۸۱	<input type="checkbox"/> ۱ <input type="checkbox"/> ۲ <input type="checkbox"/> ۳ <input type="checkbox"/> ۴	۱۳۱	<input type="checkbox"/> ۱ <input type="checkbox"/> ۲ <input type="checkbox"/> ۳ <input type="checkbox"/> ۴
32	<input type="checkbox"/> ۱ <input type="checkbox"/> ۲ <input type="checkbox"/> ۳ <input type="checkbox"/> ۴	۸۲	<input type="checkbox"/> ۱ <input type="checkbox"/> ۲ <input type="checkbox"/> ۳ <input type="checkbox"/> ۴	۱۳۲	<input type="checkbox"/> ۱ <input type="checkbox"/> ۲ <input type="checkbox"/> ۳ <input type="checkbox"/> ۴
33	<input type="checkbox"/> ۱ <input type="checkbox"/> ۲ <input type="checkbox"/> ۳ <input type="checkbox"/> ۴	۸۳	<input type="checkbox"/> ۱ <input type="checkbox"/> ۲ <input type="checkbox"/> ۳ <input type="checkbox"/> ۴	۱۳۳	<input type="checkbox"/> ۱ <input type="checkbox"/> ۲ <input type="checkbox"/> ۳ <input type="checkbox"/> ۴
34	<input type="checkbox"/> ۱ <input type="checkbox"/> ۲ <input type="checkbox"/> ۳ <input type="checkbox"/> ۴	۸۴	<input type="checkbox"/> ۱ <input type="checkbox"/> ۲ <input type="checkbox"/> ۳ <input type="checkbox"/> ۴	۱۳۴	<input type="checkbox"/> ۱ <input type="checkbox"/> ۲ <input type="checkbox"/> ۳ <input type="checkbox"/> ۴
35	<input type="checkbox"/> ۱ <input type="checkbox"/> ۲ <input type="checkbox"/> ۳ <input type="checkbox"/> ۴	۸۵	<input type="checkbox"/> ۱ <input type="checkbox"/> ۲ <input type="checkbox"/> ۳ <input type="checkbox"/> ۴	۱۳۵	<input type="checkbox"/> ۱ <input type="checkbox"/> ۲ <input type="checkbox"/> ۳ <input type="checkbox"/> ۴
36	<input type="checkbox"/> ۱ <input type="checkbox"/> ۲ <input type="checkbox"/> ۳ <input type="checkbox"/> ۴	۸۶	<input type="checkbox"/> ۱ <input type="checkbox"/> ۲ <input type="checkbox"/> ۳ <input type="checkbox"/> ۴	۱۳۶	<input type="checkbox"/> ۱ <input type="checkbox"/> ۲ <input type="checkbox"/> ۳ <input type="checkbox"/> ۴
37	<input type="checkbox"/> ۱ <input type="checkbox"/> ۲ <input type="checkbox"/> ۳ <input type="checkbox"/> ۴	۸۷	<input type="checkbox"/> ۱ <input type="checkbox"/> ۲ <input type="checkbox"/> ۳ <input type="checkbox"/> ۴	۱۳۷	<input type="checkbox"/> ۱ <input type="checkbox"/> ۲ <input type="checkbox"/> ۳ <input type="checkbox"/> ۴
38	<input type="checkbox"/> ۱ <input type="checkbox"/> ۲ <input type="checkbox"/> ۳ <input type="checkbox"/> ۴	۸۸	<input type="checkbox"/> ۱ <input type="checkbox"/> ۲ <input type="checkbox"/> ۳ <input type="checkbox"/> ۴	۱۳۸	<input type="checkbox"/> ۱ <input type="checkbox"/> ۲ <input type="checkbox"/> ۳ <input type="checkbox"/> ۴
39	<input type="checkbox"/> ۱ <input type="checkbox"/> ۲ <input type="checkbox"/> ۳ <input type="checkbox"/> ۴	۸۹	<input type="checkbox"/> ۱ <input type="checkbox"/> ۲ <input type="checkbox"/> ۳ <input type="checkbox"/> ۴	۱۳۹	<input type="checkbox"/> ۱ <input type="checkbox"/> ۲ <input type="checkbox"/> ۳ <input type="checkbox"/> ۴
40	<input type="checkbox"/> ۱ <input type="checkbox"/> ۲ <input type="checkbox"/> ۳ <input type="checkbox"/> ۴	۹۰	<input type="checkbox"/> ۱ <input type="checkbox"/> ۲ <input type="checkbox"/> ۳ <input type="checkbox"/> ۴	۱۴۰	<input type="checkbox"/> ۱ <input type="checkbox"/> ۲ <input type="checkbox"/> ۳ <input type="checkbox"/> ۴
41	<input type="checkbox"/> ۱ <input type="checkbox"/> ۲ <input type="checkbox"/> ۳ <input type="checkbox"/> ۴	۹۱	<input type="checkbox"/> ۱ <input type="checkbox"/> ۲ <input type="checkbox"/> ۳ <input type="checkbox"/> ۴	۱۴۱	<input type="checkbox"/> ۱ <input type="checkbox"/> ۲ <input type="checkbox"/> ۳ <input type="checkbox"/> ۴
42	<input type="checkbox"/> ۱ <input type="checkbox"/> ۲ <input type="checkbox"/> ۳ <input type="checkbox"/> ۴	۹۲	<input type="checkbox"/> ۱ <input type="checkbox"/> ۲ <input type="checkbox"/> ۳ <input type="checkbox"/> ۴	۱۴۲	<input type="checkbox"/> ۱ <input type="checkbox"/> ۲ <input type="checkbox"/> ۳ <input type="checkbox"/> ۴
43	<input type="checkbox"/> ۱ <input type="checkbox"/> ۲ <input type="checkbox"/> ۳ <input type="checkbox"/> ۴	۹۳	<input type="checkbox"/> ۱ <input type="checkbox"/> ۲ <input type="checkbox"/> ۳ <input type="checkbox"/> ۴	۱۴۳	<input type="checkbox"/> ۱ <input type="checkbox"/> ۲ <input type="checkbox"/> ۳ <input type="checkbox"/> ۴
44	<input type="checkbox"/> ۱ <input type="checkbox"/> ۲ <input type="checkbox"/> ۳ <input type="checkbox"/> ۴	۹۴	<input type="checkbox"/> ۱ <input type="checkbox"/> ۲ <input type="checkbox"/> ۳ <input type="checkbox"/> ۴	۱۴۴	<input type="checkbox"/> ۱ <input type="checkbox"/> ۲ <input type="checkbox"/> ۳ <input type="checkbox"/> ۴
45	<input type="checkbox"/> ۱ <input type="checkbox"/> ۲ <input type="checkbox"/> ۳ <input type="checkbox"/> ۴	۹۵	<input type="checkbox"/> ۱ <input type="checkbox"/> ۲ <input type="checkbox"/> ۳ <input type="checkbox"/> ۴	۱۴۵	<input type="checkbox"/> ۱ <input type="checkbox"/> ۲ <input type="checkbox"/> ۳ <input type="checkbox"/> ۴
46	<input type="checkbox"/> ۱ <input type="checkbox"/> ۲ <input type="checkbox"/> ۳ <input type="checkbox"/> ۴	۹۶	<input type="checkbox"/> ۱ <input type="checkbox"/> ۲ <input type="checkbox"/> ۳ <input type="checkbox"/> ۴	۱۴۶	<input type="checkbox"/> ۱ <input type="checkbox"/> ۲ <input type="checkbox"/> ۳ <input type="checkbox"/> ۴
47	<input type="checkbox"/> ۱ <input type="checkbox"/> ۲ <input type="checkbox"/> ۳ <input type="checkbox"/> ۴	۹۷	<input type="checkbox"/> ۱ <input type="checkbox"/> ۲ <input type="checkbox"/> ۳ <input type="checkbox"/> ۴	۱۴۷	<input type="checkbox"/> ۱ <input type="checkbox"/> ۲ <input type="checkbox"/> ۳ <input type="checkbox"/> ۴
48	<input type="checkbox"/> ۱ <input type="checkbox"/> ۲ <input type="checkbox"/> ۳ <input type="checkbox"/> ۴	۹۸	<input type="checkbox"/> ۱ <input type="checkbox"/> ۲ <input type="checkbox"/> ۳ <input type="checkbox"/> ۴	۱۴۸	<input type="checkbox"/> ۱ <input type="checkbox"/> ۲ <input type="checkbox"/> ۳ <input type="checkbox"/> ۴
49	<input type="checkbox"/> ۱ <input type="checkbox"/> ۲ <input type="checkbox"/> ۳ <input type="checkbox"/> ۴	۹۹	<input type="checkbox"/> ۱ <input type="checkbox"/> ۲ <input type="checkbox"/> ۳ <input type="checkbox"/> ۴	۱۴۹	<input type="checkbox"/> ۱ <input type="checkbox"/> ۲ <input type="checkbox"/> ۳ <input type="checkbox"/> ۴
50	<input type="checkbox"/> ۱ <input type="checkbox"/> ۲ <input type="checkbox"/> ۳ <input type="checkbox"/> ۴	۱۰۰	<input type="checkbox"/> ۱ <input type="checkbox"/> ۲ <input type="checkbox"/> ۳ <input type="checkbox"/> ۴	۱۵۰	<input type="checkbox"/> ۱ <input type="checkbox"/> ۲ <input type="checkbox"/> ۳ <input type="checkbox"/> ۴