



پوش
پوش: پیام‌آور دانایی



حصار صحرای

• هوش‌برگ ویژه‌ی سوم دبستان •

کتابچه‌ی
رایگان
پاسخنامه



[تقویم هوش با ۲۸ هفته‌ی آموزشی خلاّقانه]

همگام با کتاب درسی سوم دبستان مؤلفین: سمانه مدرسی x زهرا درگاهی



از پاسخ‌های هر عبارت برای هدایت شدن به انتهای ماز استفاده کن. (برای پیدا کردن عدد هر تصویر به راهنما توجه کن.)

شروع ↓

= ۰	= ۱	= ۲	= ۳	= ۴
= ۵	= ۶	= ۷	= ۸	= ۹

۳۹ →

$\begin{array}{r} ۹۲ \\ + ۷۴ \\ \hline \end{array}$		$\begin{array}{r} ۸۴ \\ - ۴۶ \\ \hline \end{array}$		$\begin{array}{r} ۴۶۸ \\ + ۴۸۷ \\ \hline \end{array}$		$\begin{array}{r} ۴۳ \\ + ۵۵ \\ \hline \end{array}$
$\begin{array}{r} ۹۳ \\ - ۲۸ \\ \hline \end{array}$		$\begin{array}{r} ۵۱۵ \\ - ۱۵۷ \\ \hline \end{array}$		$\begin{array}{r} ۴۴۵ \\ + ۳۹۸ \\ \hline \end{array}$		$\begin{array}{r} ۹۵۴ \\ - ۷۸۹ \\ \hline \end{array}$
$\begin{array}{r} ۲۶۴ \\ + ۱۲۷ \\ \hline \end{array}$		$\begin{array}{r} ۵۱۶ \\ - ۳۵۳ \\ \hline \end{array}$		$\begin{array}{r} ۹۷ \\ - ۷۹ \\ \hline \end{array}$		پایان

جاهای خالی را طوری پر کن که حاصل جمع ستون‌ها و ردیف‌ها برابر با عدد کنار جدول باشد.

۷۵

	۲۵	۱۵
۱۰	۴۵	

۱۵

	۹	۲
	۵	
۸		۶

بند اول درس «محلّه‌ی ما» را بدون نقطه بنویس. (نقطه‌ی کلمات را نباید بگذاری.)

.....

.....

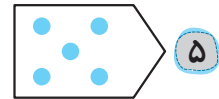
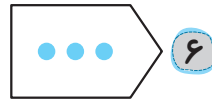
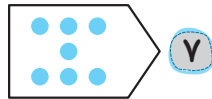
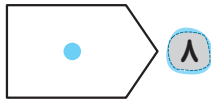
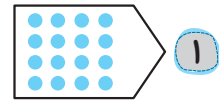
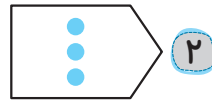
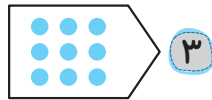
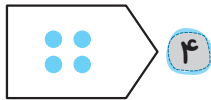
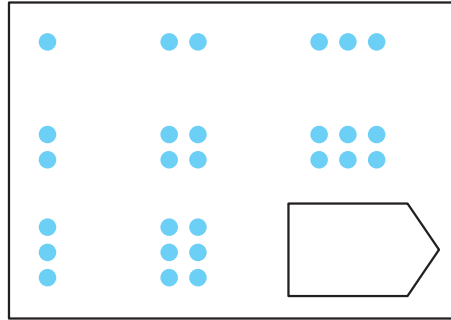
.....

.....

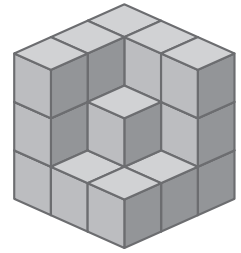
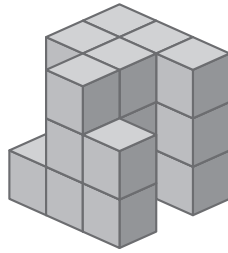
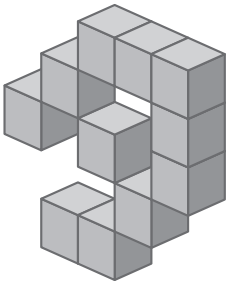




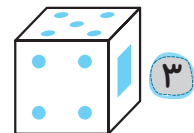
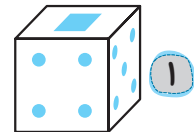
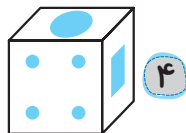
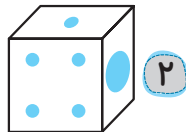
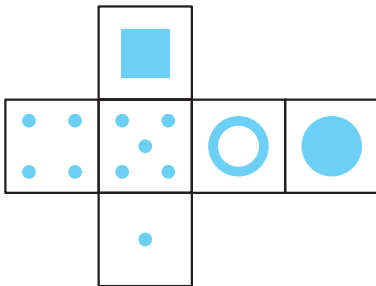
جای خالی با کدام گزینه پُر می شود؟




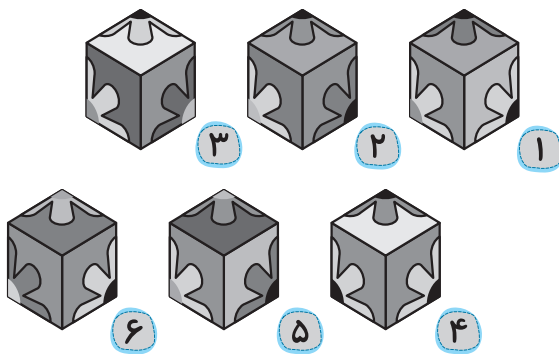
هر شکل از چند مکعب ساخته شده است؟



با بستن گسترده ی داده شده، کدام مکعب ساخته نمی شود؟



مکعب بزرگ با کدام گزینه کامل می شود؟



رتبه در کلاس:





هفتگی ۴

نام و نام خانوادگی:

تاریخ:

کلاس:



چهار مغز سوم دبستان
هفتگی ۴
صفحه ۱۷

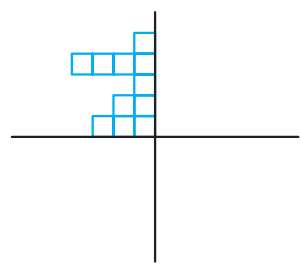
۱ سیمین در روز چهارشنبه ۲۰ مرداد به دیدار دوستش رفت و او را به جشن تولد خود در ۵ شهریور دعوت کرد. جشن تولد سیمین چه روزی از هفته برگزار خواهد شد؟ (مرداد ۳۱ روزه است).

۱ پنجشنبه ۲ جمعه ۳ چهارشنبه ۴ سه‌شنبه

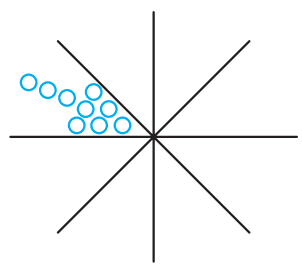
۲ تولد سیمین ساعت ۳:۳۰ بعد از ظهر شروع شد، یعنی ساعت ساعت ۱۸:۲۰ هم جشن پایان یافت یعنی بعد از ظهر.



۳ با استفاده از جمع و الگو، تعداد کل مهره‌های هر شکل را پیدا کن. (شکل‌ها را کامل کن).



ب
.....



الف
.....

۴ اگر اولین سه‌شنبه‌ی ماه مهر، سوم ماه باشد، تا آخر ماه سه‌شنبه‌ها چه روزهایی از ماه هستند؟

۵ کاغذهایی را مطابق شکل‌های زیر تا کرده و قسمتی از آن‌ها را برش می‌زنیم. کدام گزینه باز شده‌ی این کاغذها است؟

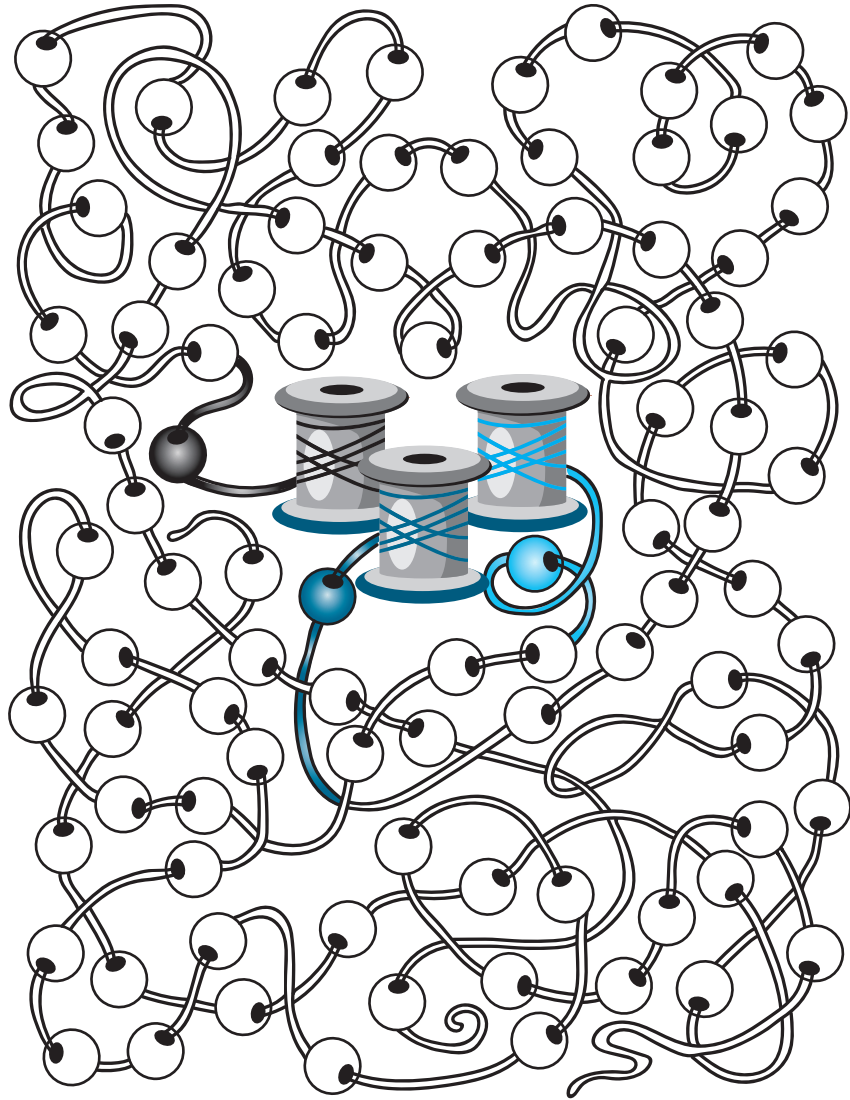
الف				
		۳	۲	۱
ب				
		۳	۲	۱





📦 مارال ۳۵۰۰ ریال پول دارد. مهیا ۱۰۰ تومان از مارال کمتر پول دارد. میترا ۶۰۰ تومان از مهیا بیشتر پول دارد. مجموع پول این ۳ نفر روی هم چند تومان است؟ تومان

📦 نخ‌های هر قرقره را مشخص کن.



📦 کلمه‌ی «شش» را به چند صورت می‌توان خواند؟ با هر کدام یک جمله بنویس.

..... :

..... :

📦 کدام کلمات جمع هستند؟ آن‌ها را رنگ کن.

شکلات	قطعات	سامان	دانش آموزان
کلمات	رها	کتاب‌ها	کرمان





۸ حاصل تقریبی جمع و تفریق کدام گزینه با حذف رقم‌های یکان، دهگان و صدگان از بقیه کوچک‌تر است؟

$$\begin{array}{r} 9562 \\ - 4702 \\ \hline \end{array} \quad ۲$$

$$\begin{array}{r} 2971 \\ + 6269 \\ \hline \end{array} \quad ۱$$

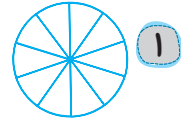
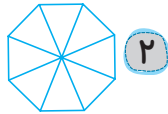
$$\begin{array}{r} 8298 \\ - 1456 \\ \hline \end{array} \quad ۴$$

$$\begin{array}{r} 4083 \\ + 3425 \\ \hline \end{array} \quad ۳$$

۹ کدام یک از عددهای زیر به درستی مقایسه نشده است؟

۱ $9876 > 10002$ ۲ $4280 > 4208$ ۳ $7364 > 7354$ ۴ $3908 > 3098$

۱۰ در کدام شکل، تعداد مثلث بیشتری دیده می‌شود؟



۴ تعداد مثلث‌های گزینه‌ی «۲» و «۳» با هم برابر است.

داستان زیر را بخوان و به سوالات پاسخ بده.

فیل کوچولوی تنها

روزی روزگاری یک فیل تنها به جنگلی عجیب راه یافت. برای او تازگی داشت و او به دنبال دوست بود. او به یک میمون نزدیک شد و گفت: «سلام میمون! تمایل داری با من دوست شوی؟» میمون گفت: «تو آن قدر بزرگی که نمی‌توانی مثل من تاب بخوری، پس من نمی‌توانم دوستت باشم.» سپس فیل نزد خرگوش رفت و همان سؤال را پرسید. خرگوش گفت: «تو آن قدر بزرگ هستی که در لانه‌ی من جا نمی‌گیری، پس من نمی‌توانم دوستت باشم.» فیل نزد قورباغه‌ای که در برکه بود رفت و همین سؤال را پرسید. قورباغه پاسخ داد: «تو آن قدر سنگینی که نمی‌توانی به اندازه‌ی من پیری، پس من نمی‌توانم دوستت باشم.»

فیل واقعاً غمگین بود زیرا نتوانست دوستی پیدا کند. سپس یک روز، او همه‌ی حیوانات را دید که به سمت جنگل می‌دویندند. از یک خرس پرسید که این هیاهو برای چیست؟ خرس گفت: «شیر رها شده است، آن‌ها برای نجات خود از او فرار می‌کنند.» فیل نزد شیر رفت و گفت: «لطفاً به این مردم بی‌گناه آسیب نرسانید. لطفاً آن‌ها را به حال خود رها کنید.» شیر مصخره کرد و از فیل خواست که کنار برود. سپس فیل عصبانی شد و با تمام قدرت شیر را هل داد و او را مجروح کرد. همه‌ی حیوانات دیگر به آرامی بیرون آمدند و از شکست شیر شروع به شادی کردند. آن‌ها نزد فیل رفتند و به او گفتند: «تو به اندازه‌ی هستی که دوست ما باشی.»



الف چرا فیل ناراحت بود؟

ب چرا حیوانات جنگل به فیل گفتند: «تو به اندازه‌ی هستی که

دوست ما باشی.»؟


ج املاي کدام کلمه غلط است؟

د به نظر شما آیا فیل حیوانات جنگل را می‌بخشد و با آن‌ها

دوست می‌شود؟



می خواهیم از مکان های دیدنی و تاریخی شهر اصفهان دیدن کنیم؛ بنابراین لیست زیر را آماده کرده ایم.
 ۴۰. ثانیه فرصت داری تا این مکان ها را به خاطر بسپاری.
 «عالی قاپو، کاخ چهل ستون، میدان نقش جهان، سی و سه پل، کاخ هشت بهشت، پل خواجه، میدان عتیق، بازار مسگرها، منارجنبان، موزه موسیقی»
 حالا به هاپو کوچولو کمک کن تا به خانه اش برسد.



حالا بدون نگاه کردن به لیست بالا، آن ها را بنویس.

.....
 چند کلمه ی صحیح نوشتی؟



نام و نام خانوادگی:

تاریخ:

کلاس:





چهارم فروردین دیستان

هفتگی ۲۷

صفحه ی

۱۰۹

۸ اختلاف میان تصاویر زیر پیدا کن.




زینب از روز ۲۷ آبان ماه تا ۵ آذرماه هر روز ۹ صفحه کتاب خوانده است. او در این مدت چند صفحه

کتاب خوانده است؟

.....





هفتگی
۲۸

نام و نام خانوادگی:
تاریخ:
کلاس:



چهارم فروردین دیستان
هفتگی
۲۸
صفحه ی
۱۱۳

تصاویر مخفی را پیدا کن و رنگ بزن.



- | | | | | | | | |
|-------|---------|---------|-----|--------|-------|-------|------------|
| | | | | | | | |
| چنگال | مسواک | پای سیب | تاج | زنگ | فنجان | بستنی | ماهی |
| | | | | | | | |
| جوراب | نعل اسب | مداد | قلب | آبنبات | قلاب | حلقه | چوب
گلف |





پاسخنامه‌ی هفتگی ۱

چهارم‌فرد سوم دبستان

پاسخنامه‌ی هفتگی ۱

$$\begin{array}{r} 2 \quad \boxed{5} \quad 4 \\ + \quad \boxed{7} \quad 3 \quad \boxed{2} \\ \hline 9 \quad 8 \quad 6 \end{array}$$

$$2 + 5 + 7 = 14$$

۱۲۰، ۹۵۰، ۵۹۰، ۹۵۰، ۵۰۹، ۹۰۵ ← چهار عدد

۱۲۰ گزینه‌ی «۲»

طول دم گربه را \bigcirc در نظر می‌گیریم:

$$\bigcirc = 18 + 9 = 27$$

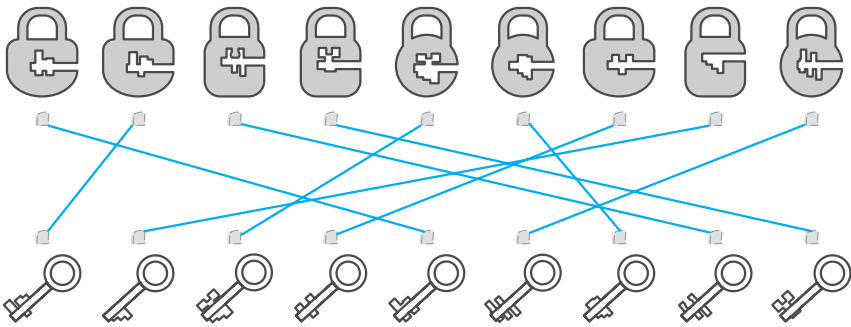


۱۲۰ الگو به این صورت است:

شکل اول: $9 + 7 - 4 = 12$

شکل دوم: $4 + 1 - 1 = 4$

شکل سوم: $5 + 6 - 2 = 9 \Rightarrow ? = 9$



۱۲۰ الف (تازه - بیرون - داشت - زیبایی، ب) نشسته - ناراحت - تابستان - فیروزه‌ای

۲	۴	۶	۸
۳	۶	۹	۱۲
۴	۸	۱۲	۱۶
۵	۱۰	۱۵	۲۰

$$6 + 6 + 12 + 20 = 44$$



$$35 - 18 + 1 = 18$$

۹۱ او در مجموع به ۱۸ خانه نذری داده است.



$\begin{array}{r} 92 \\ + 74 \\ \hline 166 \end{array}$		$\begin{array}{r} 84 \\ - 46 \\ \hline \end{array}$		$\begin{array}{r} 468 \\ + 487 \\ \hline 955 \end{array}$		$\begin{array}{r} 43 \\ + 55 \\ \hline \end{array}$
$\begin{array}{r} 93 \\ - 28 \\ \hline 65 \end{array}$		$\begin{array}{r} 515 \\ - 157 \\ \hline 358 \end{array}$		$\begin{array}{r} 445 \\ + 398 \\ \hline \end{array}$		$\begin{array}{r} 954 \\ - 789 \\ \hline 165 \end{array}$
$\begin{array}{r} 264 \\ + 127 \\ \hline 391 \end{array}$		$\begin{array}{r} 516 \\ - 253 \\ \hline \end{array}$		$\begin{array}{r} 97 \\ - 79 \\ \hline 18 \end{array}$		پایان

چهار مغز سوم دبستان

پاسخنامه‌ی هفتنی

۱

۷۵

۳۰	۵	۴۰
۳۵	۲۵	۱۵
۱۰	۴۵	۲۰

۱۵

۴	۹	۲
۳	۵	۷
۸	۱	۶

۱۰۲ این تمرین برای افزایش تمرکز و دقت دانش‌آموز طراحی شده است.

۱۰۳ گزینه‌ی «۳»

۱۰۴ کبریت

۱۰۵ نفر دوم

۱۰۶ گزینه‌ی «۳»

