



هفتگی ۲

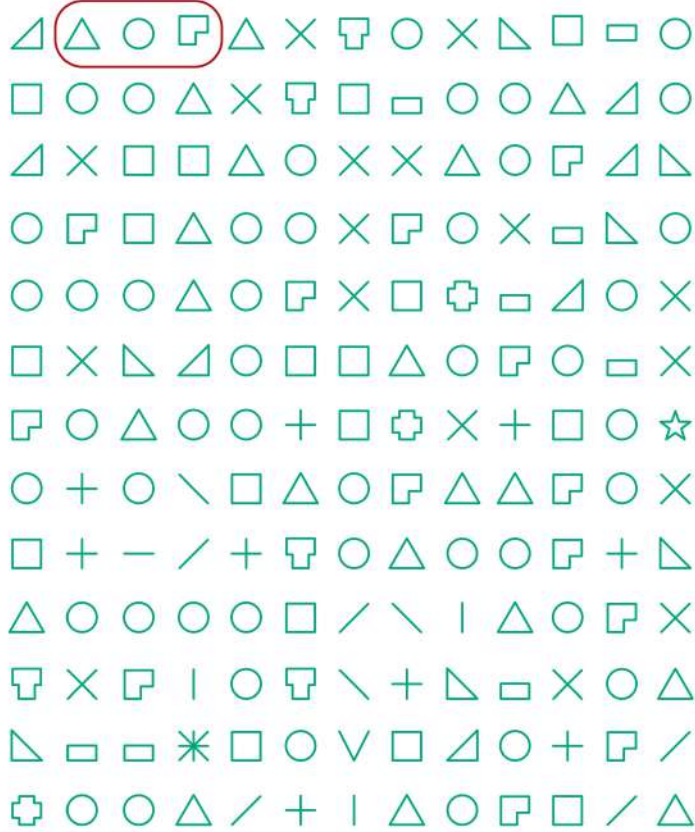
نام و نام خانوادگی:

تاریخ:

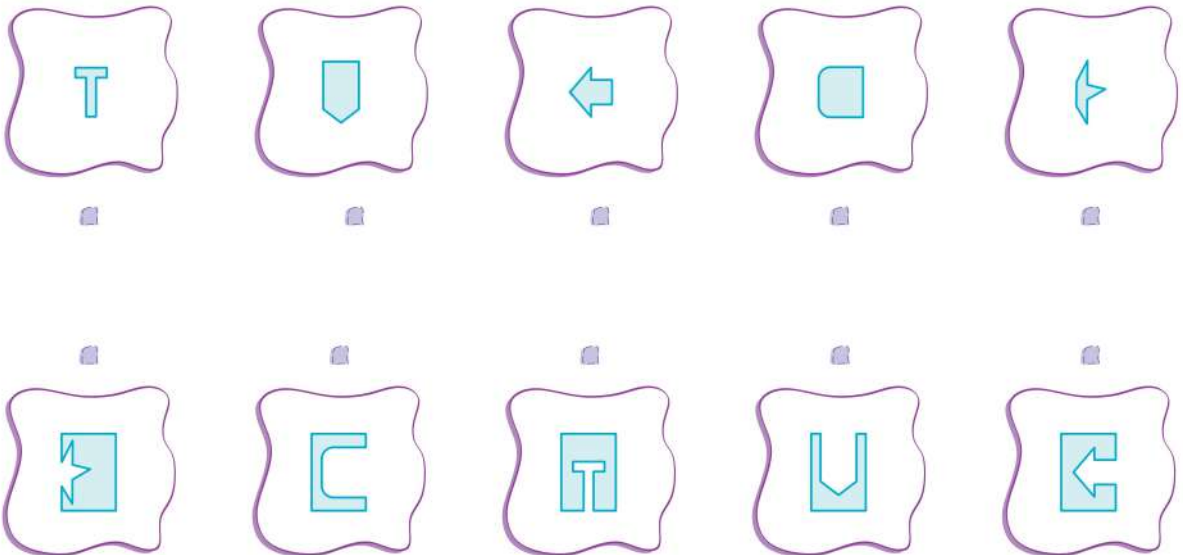
کلاس:

مانند نمونه، شکل‌ها را به ترتیب زیر پیدا کن و دور آن‌ها خط بکش.

△ ○ □



عزیزم؛ قطعه‌ی گمشده‌ی هر شکل را به آن وصل کن.



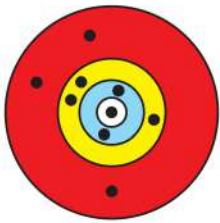


۳ با توجه به تعداد نشانه‌ها، الگوی زیر را ادامه بده. (از کلمات درس «هوای سالم» کتاب علوم استفاده کن.)
آلوده - هوا - پرنده -

۴ با توجه به تعداد نقطه‌ها، الگوی زیر را ادامه بده. (از کلمات درس «کتاب‌خانه‌ی کلاس ما» کتاب فارسی استفاده کن.)
روز - قرار - مشورت -

۵ با دو کارت ۱ و ۵ چند عدد دورقمی می‌توان نوشت؟ آن‌ها را بنویس.

۶ در یک مسابقه‌ی تیراندازی، این صفحه‌ی هدف شایان است. شایان چند امتیاز گرفته است؟



قسمت قرمز: ۴ امتیاز

قسمت زرد: ۵ امتیاز

قسمت آبی: ۶ امتیاز

قسمت سفید: ۱۰ امتیاز

۷ وقتی سارا به دنیا آمد، سپهر ۵ ساله بود. حالا سارا ۴ سال دارد. سپهر چندساله است؟



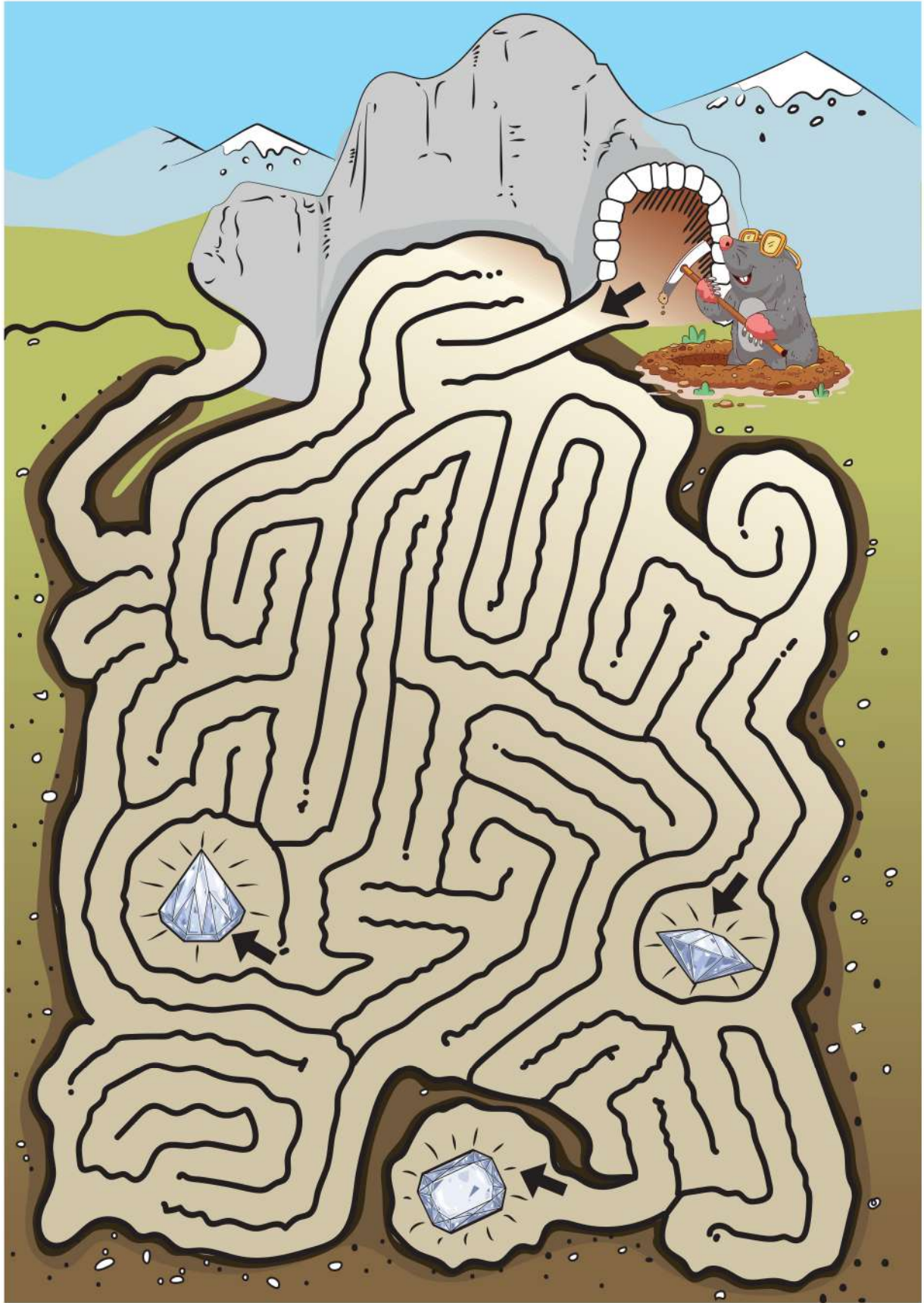
۸ خانه‌هایی را که عدد یکسانی دارند، به هم وصل کن.

سی و شش	هفده
۴۰	۶۸
عددی با دهگان ۶	۱۰۱۰۱۰
	عدد بعد از ۳۹
	۵۷
عددی با یکان ۷	

۹ یک ساختمان ۴ طبقه دارد. در هر طبقه ۶ واحد وجود دارد. در ۴ طبقه چند واحد وجود دارد؟



دوست کاوشگرمان را به الماس‌ها برسان.



چهارمغز دوم دبستان

هفتمی

۲

صفحه‌ی

سه





۱۱ با کشیدن عقربه‌های دقیقه‌شمار و ساعت‌شمار، ساعت دقیق را نشان بده.



۱۰:۰۰



۱۱:۰۰



۰۷:۰۰

۱۲ تعداد نشانه‌ی هر کلمه را زیر آن بنویس و حاصل جمع اعداد را به دست بیاور.

الف محله + خورشید + شروع

$$\square + \square + \square = \square$$

ب قابلمه + چغندرک + کهنه

$$\square + \square + \square = \square$$

ج هم‌فکری + جالب + تبسم

$$\square + \square + \square = \square$$

د نوه + سلیقه + خواهش

$$\square + \square + \square = \square$$

۱۳ سارا ۳۹ شاخه گل دارد. ۲۴ تا از گل‌ها رز سفید و بقیه رز قرمز هستند. سارا چند رز قرمز دارد؟

۱۴ امروز سه‌شنبه، روز نهم ماه است. دوشنبه‌ی دو هفته‌ی بعد چه روزی از ماه است؟

رتبه در کلاس:





نام و نام خانوادگی:



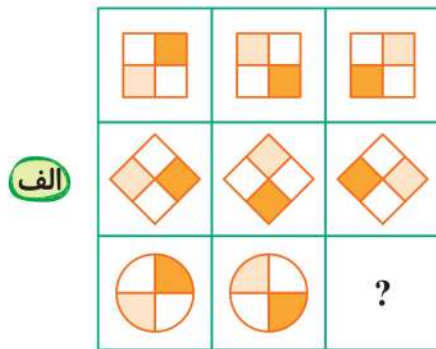
تاریخ:

کلاس:

۱ آرین ۳ جعبه‌ی سبز دارد. در هر جعبه‌ی سبز ۵ مداد وجود دارد. او ۷ جعبه‌ی زرد نیز دارد. در هر جعبه‌ی زرد ۲ مداد وجود دارد. آرین روی هم چند مداد دارد؟

.....
.....

۲ در جای علامت سؤال، کدام تصویر قرار می‌گیرد؟



۳ یک سیم ۱۶ متری را به قطعه‌های ۴ متری تقسیم کرده‌ایم. چند برش برای این کار لازم بوده است؟

.....
.....

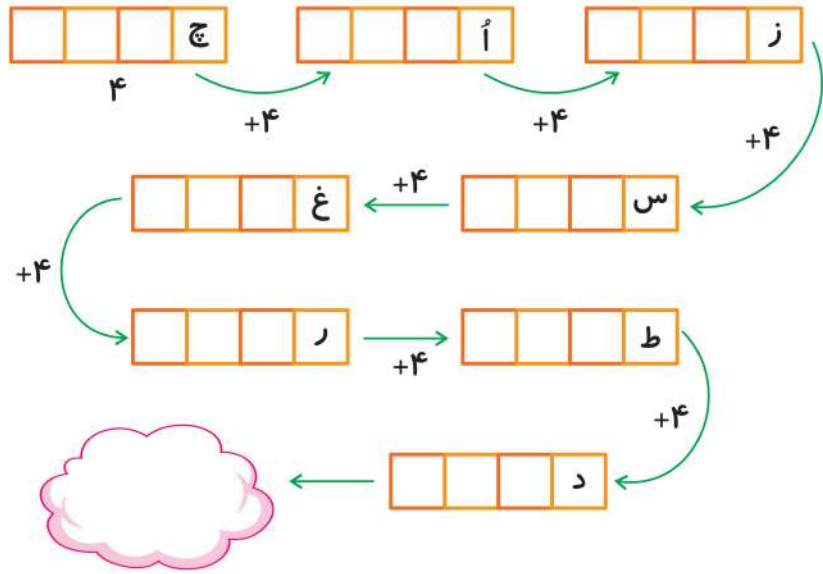
۴ دو اسب، یک اردک، یک ماهی، دو کبوتر و یک پسر بچه در یک باغ هستند. آن‌ها روی هم چند پا دارند؟

.....
.....





۵ کلمات زیر را با توجه به تعداد نشانه‌ها از درس سوم کتاب علوم پیدا کن و حاصل جمع اعداد را بنویس.



۶ هر ساعت چه زمانی را نشان می‌دهد؟ بنویس.



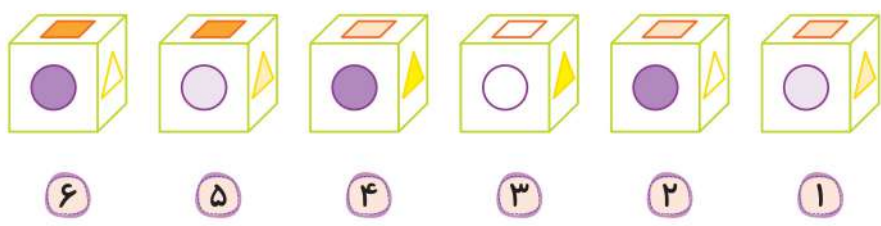
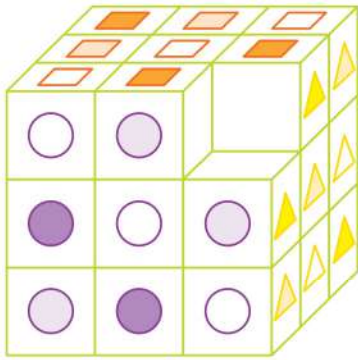
..... :

..... :

..... :

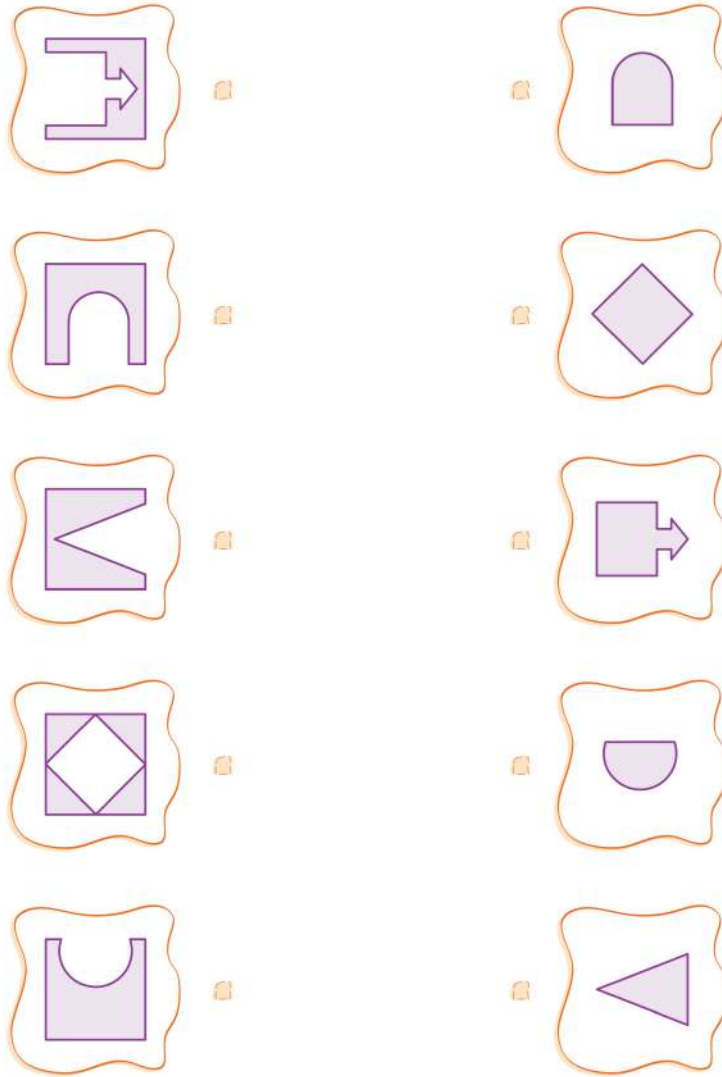
..... :

۷ کدام یک از مکعب‌های زیر می‌تواند مکعب بزرگ را کامل کند؟





۸ قطعه‌ی گمشده‌ی هر شکل را به آن وصل کن.



۹ در شمارش ۷ تا ۷ تا، دومین عدد قبل از ۴۲ چه عددی است؟

.....

.....

۱۰ جدولی چندطبقه داریم که در هر طبقه‌ی آن ۲ کلمه‌ی سه‌نقطه‌ای قرار می‌گیرد.

الف در ۵ طبقه چند کلمه قرار می‌گیرد؟ از کلمات درس «چغندر پربرکت» استفاده کن و جدول را پُر کن.

.....
.....
.....
.....
.....

ب تعداد نقطه‌ها را در ۵ طبقه حساب کن.

.....





به گاو، اسب و قورباغه کمک کن تا شمارهی خودشان را پیدا کنند و علامت سؤال را به دست آورند.



$$\text{Horse} + \text{Horse} + \text{Cow} = 16$$

$$\text{Cow} + \text{Frog} + \text{Frog} = 14$$

$$\text{Horse} + \text{Frog} + \text{Cow} = 15$$

$$\text{Cow} + \text{Cow} - \text{Frog} = ?$$

$$\dots = \text{Cow}$$

$$\dots = \text{Horse}$$

$$\dots = \text{Frog}$$

رتبه در کلاس:






هفتگی ۴

نام و نام خانوادگی:

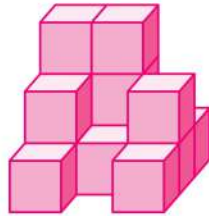
تاریخ:

کلاس:

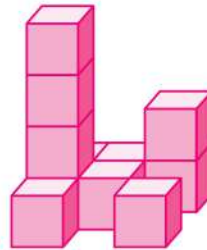
۱ هر شکل از چند مکعب تشکیل شده است؟



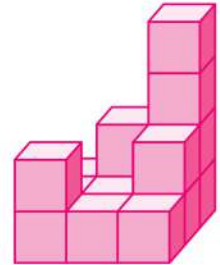
د



ج



ب



الف

۲ زمانی را که هر ساعت نشان می‌دهد، زیر آن بنویس.



.....



.....

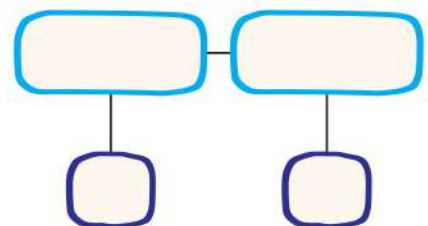
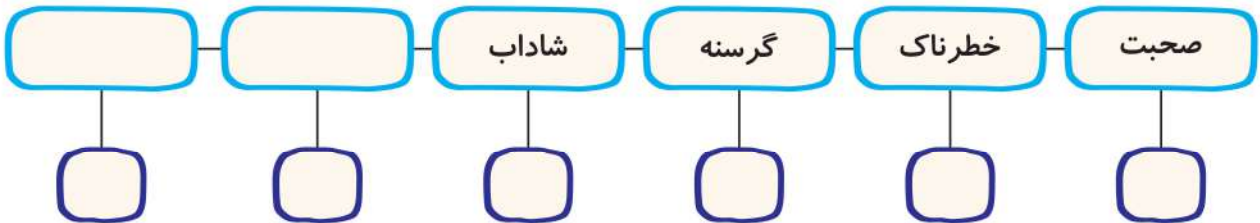


.....



.....

۳ با توجه به تعداد نشانه‌ها، الگوی زیر را ادامه بده. (می‌توانی از درس «خرس کوچولو» کتاب فارسی کمک بگیری.) همچنین تعداد نشانه‌های هر کلمه را زیر آن بنویس و بگو چه رابطه‌ای بین اعداد این الگو وجود دارد.





۴ پرنده روی شاخه‌ی درختی نشسته بودند. ۳ پرنده پرواز کردند و رفتند، ۵ پرنده‌ی دیگر روی شاخه نشستند. حالا چند پرنده روی شاخه‌ی درخت نشسته‌اند؟

۵ قسمت‌های بازشده‌ی هر تصویر را به آن وصل کن.

۶ با توجه به شکل، به جای علامت سؤال کدام شکل قرار می‌گیرد؟

○	+	⊕
+	⊙	⊙
○	⊙	?

+	⊙	⊕
⊕	+	⊙
⊕	⊕	?

۱

۲

۳

۱

۲

۳





۷ چند عدد بیشتر از ۱۰ و کمتر یا مساوی ۳۱ وجود دارد که فقط با رقم‌های ۱، ۲ و ۳ ساخته شده باشند؟
(می‌توانید از رقم‌ها به صورت تکراری هم استفاده کنید.) (کانگورو)

۸ (۵)

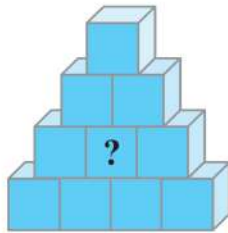
۷ (۴)

۶ (۳)

۴ (۲)

۲ (۱)

۸ سارا ۴ مکعب قرمز، ۳ مکعب آبی، ۲ مکعب سبز و ۱ مکعب زرد دارد. او شکل زیر را طوری ساخته است که هیچ‌یک از مکعب‌های کنار هم، هم‌رنگ نیستند. مکعب وسطی چه رنگی است؟ (کانگورو)



۴ زرد

۳ سبز

۲ آبی

۱ قرمز

۹ راننده گم شده است و نمی‌تواند مسیر خانه را پیدا کند. به او کمک کن به خانه برسد.





با انجام محاسبات، فضاپیما را به ماه برسان.



→ ۳ +۶ □ -۷ □ +۳ □

□ +۶ □ -۲ □

-۷ □ +۶ □ +۵


□ -۸ □ +۳ □ +۴ □

+۵ □ +۷ □ □ -۵ □ -۸

□ +۵ -۶ □ -۴ □ -۲ □

-۶ □ +۸ □ +۳ □ +۵

□ +۱ □ +۴ □ -۳ □



در الگوی زیر، کدام ساعت به جای علامت سؤال قرار می‌گیرد؟

2:31 3:13 3:55 4:37 ?

5:19

۵

4:55

۴

5:13

۳

5:32

۲

6:01

۱

رتبه در کلاس:

