



۱) درستی یا نادرستی عبارت‌های زیر را مشخص کرده و عبارت‌های نادرست را اصلاح کنید.

الف) ما تا آنجا می‌توانیم حق خود را اعمال کنیم که مغایر قانون نباشد.  
 درست  نادرست

ب) افراد در استفاده از حقوق خود آزادی مطلق دارند.  
 درست  نادرست

ج) عدم رعایت قوانین و مقررات در جامعه، موجب پیمان شدن حقوق افراد می‌شود.  
 درست  نادرست

د) جاهای خالی را با کلمات مناسب پر کنید.  
 الف) مکان‌های عمومی، مقررات ..... دارند.

ب) عدم رعایت قوانین و مقررات در جامعه، باعث برهم زدن ..... اجتماعی می‌شود.

ج) با ورود ما انسان‌ها به اجتماع، روابط اجتماعی میان ما و دیگران برقرار می‌شود و نسبت به یک‌دیگر ..... پیدا می‌کنیم.

۳) قانون و مقررات، به چه دلایلی به وجود آمده‌اند؟

.....  
 .....  
 .....

۴) آیا ما در استفاده از حقوق خود آزادی مطلق و بی‌قید و شرط داریم؟ در این رابطه توضیح دهید.

.....  
 .....  
 .....

۵) رعایت نکردن قوانین و مقررات چه عواقبی دارد؟

.....  
 .....  
 .....

۶) کلمات در هم ریخته زیر را مرتب کنید و جمله حاصل را بنویسید.

احترام به  
 ایجاد نظم و امنیت و  
 جلوگیری از هرج و مرج  
 به نفع همگان بوده و  
 حقوق دیگران است.

.....  
 .....  
 .....

۷) گزینه درست را انتخاب کنید.

۱) ایجاد نظم و امنیت باعث چه چیزهایی در جامعه خواهد شد؟

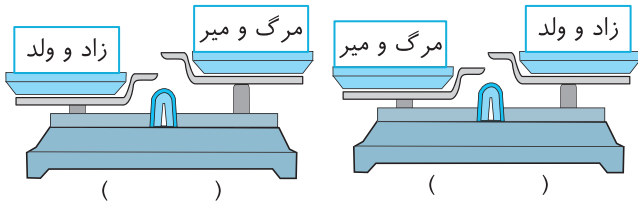
- (۱) جلوگیری از هرج و مرج  
 (۲) نفع همگانی  
 (۳) احترام به حقوق دیگران  
 (۴) همه موارد

۸) یک بازی گروهی انتخاب کنید. چند مورد از مقررات آن را توضیح دهید و بگویید اگر این مقررات نبودند چه مشکلاتی در این بازی به وجود می‌آمد؟

.....  
 .....  
 .....

پویش؛ پیام‌آور دانایی

۱۵ کدام یک از شکل‌های زیر نشان‌دهنده افزایش و کدام یک نشان‌دهنده کاهش رشد جمعیت است؟



۱۶ منظور از تراکم جمعیت چیست؟

۱۷ تراکم جمعیت یک منطقه را چگونه محاسبه می‌کنیم؟

۱۸ چه عواملی باعث ایجاد مناطقی با تراکم پایین یا کم می‌شود؟

۱۹ چه عواملی باعث ایجاد مناطقی با تراکم بالا یا زیاد می‌شود؟

۲۰ دومین ناحیه پر تراکم کشور کجاست؟ چرا؟

۲۱ علاوه بر نواحی جلگه‌ای کناره دریای خزر، کدام مناطق کشور تراکم جمعیت بالایی دارند؟

۲۲ کار مرکز آمار ایران چیست؟

۱ به تعداد خانه‌های سالمندان بیشتری احتیاج داریم:

۲ به تعداد مدارس بیشتری نیاز داریم:

۱۱ علت تراکم بالای جمعیت در شهرهای زیر چیست؟

الف مشهد:

ب تهران:

ج اهواز:

د آمل:

۱۲ دور عواملی که باعث می‌شود در یک منطقه تراکم جمعیت زیاد شود، خط بکشید.

«آب و هوای بسیار گرم، خاک نامساعد، پایتخت بودن، داشتن معادن باارزش، نفت خیر بودن، جلگه‌های حاصلخیز»

۱۳ چرا در کوهپایه‌های البرز و زاگرس جمعیت زیادی زندگی می‌کنند؟

۱۴ جدول زیر را کامل کنید.

ناحیه	تراکم جمعیت	علت
دشت کویر		
نواحی داخلی		
جلگه‌های کناره دریای خزر		

۸ چرا مردم ایران باستان به تقویم نیاز داشتند؟

.....

.....

.....

.....

۹ در تقویم خورشیدی سال را به چند ماه و روز تقسیم می کردند؟

.....

.....

.....

.....

۱۰ در کتاب اوستا از چند نوع پزشک در ایران باستان نام برده شده است؟ نام ببرید.

.....

.....

.....

.....

۱۱ ایرانیان باستان در چه هنرهایی مهارت داشتند؟

.....

.....

.....

.....

۱۲ چه شواهدی وجود دارد که نشان می دهد، ایرانیان باستان با علمی چون ریاضی، هندسه، زمین شناسی و ... آشنا بوده اند؟

.....

.....

.....

.....

۱۳ نوع مصالحی که ایرانیان باستان در ساختن خانه های خود استفاده می کردند، تابع چه عواملی بوده است؟

.....

.....

.....

.....

۱۴ نام چند بنای به جا مانده از دوران ایران باستان را بنویسید.

.....

.....

.....

۱۵ کدام یک از این بناها از نظر وسعت و معماری شهرت جهانی دارند؟

.....

.....

.....

۱۵ در دانشگاه جندی شاپور، چه علمی و توسط چه کسانی تدریس می شد؟

.....

.....


.....

۱۶ منظور از پارسی میانه کدام زبان است؟


.....

.....

۱۷ هر یک از خط های زیر مربوط به چه دوره ای است؟



( )



( )



( )



( )

۱۸ اصل ۱۵ قانون اساسی کشور ما به چه چیزی اشاره دارد؟

.....

.....

.....