

هوش سرعت و دقت

دنیای اعداد

تعداد قابل توجهی از سؤال‌های دفترچه‌ی دوم آزمون‌های ورودی مدارس تیزهوشان، مربوط به سنجش سرعت در محاسبات ساده‌ی اعداد اعم از چهار عمل اصلی، ماشین‌های ورودی و خروجی، الگوهای ساده‌ی اعداد و ... است. علاوه بر محاسبات عددی، در تعدادی از سؤالات نیز فقط از مجموعه‌های عددی، جداول عددی و ... استفاده شده است.

مثال: اگر در عدد زیر، از سمت چپ، به ترتیب رقم اول با سوم، دوم با چهارم، سوم با پنجم، چهارم با ششم و ... جابه‌جا شوند، کدام گزینه چهارمین رقم از سمت چپ خواهد بود؟

۶۰۲۸۷۵۳۶۴۱۹

۳ (۴)

۵ (۳)

۱ (۲)

۶ (۱)

پاسخ‌گزینه‌ی ۳

عدد به‌دست‌آمده‌ی نهایی: «۴۶۳۵۷۸۱۲۰۶۹۱»

«برای مشاهده‌ی سؤالات بیشتر، به کتاب سرعت و دقت ششم (نیترو) مراجعه کنید.»

دنیای ادبیات

در سؤالات این‌چنینی، علاوه بر سرعت، دقت، توجه و تمرکز، باید سعی کنیم که دایره‌ی لغاتمان را گسترش دهیم و علاوه بر مطالعه‌ی کتاب‌های درسی فارسی، زمان‌هایی را نیز به مطالعه‌ی آزاد بپردازیم.

کتاب‌های هوش سرعت و دقت نیترو (ششم)، تیک‌آف، هوش سرعت و دقت CPU می‌توانند در زمینه‌ی آشنایی با سؤالات کلامی دفترچه‌ی دوم آزمون تیزهوشان به شما بسیار کمک کنند.

مثال: با توجه به رابطه‌ی واژه‌ها، واژه‌ی بعدی کدام است؟

سیامک، شهروز، صابر، ضیا،

ظہیر (۴)

طناز (۳)

طاهر (۲)

یوسف (۱)

پاسخ‌گزینه‌ی ۲

حروف اول اسامی، متوالی و همگی اسم پسر هستند.

«برای مشاهده‌ی سؤالات بیشتر، به کتاب تیک‌آف مراجعه کنید.»

دنیای شکل‌ها

در تعدادی از سؤالات این بخش، یک تصویر شامل مجموعه‌ای از شکل‌های مختلف (و گاهاً شبیه به هم) که هر کدام از آنها چندین بار در تصویر تکرار شده‌اند، به شما می‌دهند و خواسته‌ی سؤال، تعداد این اشکال، جزئیات آنها و ... است. در تعدادی از سؤالات این قسمت، خواسته‌ی سؤال، تشخیص شکل متفاوت با بقیه‌ی گزینه‌ها، شمارش تعداد تفاوت‌ها در دو تصویر و ... است.

مثال: در مجموعه‌ی مقابل، چند دایره‌ی غیررنگی داریم؟

۱۲ (۱)


۱۳ (۲)

۱۴ (۳)

۱۵ (۴)

پاسخ‌گزینه‌ی ۳

«برای مشاهده‌ی سؤالات بیشتر، به کتاب تیک‌آف مراجعه کنید.»

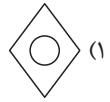
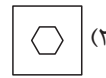
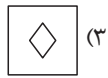
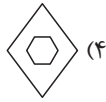




دنیای کدها

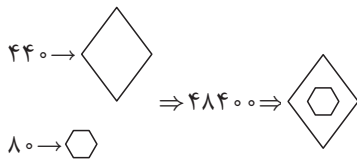
در این نوع از سؤال‌ها که معمولاً ساده و سرگرم‌کننده هستند، تعدادی عدد یا حروف با نماد و کدهایی در جداولی نمایش داده می‌شوند. در مواجهه با این سؤالات باید مواظب باشید نمادها و شکل‌های مشابه شما را گمراه نکنند، به زاویه و جهت‌گیری نمادها به دقت توجه کنید و سؤال‌های مطرح‌شده را با توجه به آنها پاسخ دهید.

سؤال: کدام شکل مربوط به کد ۴۸۴۰۰ است؟



پاسخ گزینه‌ی ۴

جایگاه‌های فرد مربوط به ارقام کد شکل بزرگ و جایگاه‌های زوج مربوط به ارقام کد شکل کوچک است. بنابراین کد شکل بزرگ ۴۴۰ و کد شکل کوچک ۸۰ است.



«برای مشاهده‌ی سؤالات بیشتر، به آزمون‌های شبیه‌ساز هوش سرعت و دقت CPU مراجعه کنید.»