



انتشارات پویش اندیشه خوارزمی

آزمون شماره‌ی «۲» تیزهوشان ششم

(استعداد تحلیلی)

تاریخ برگزاری آزمون: ۱۴۰۰/۱۱/۱۵

دفترچه‌ی سؤال		
زمان پاسخگویی	تعداد سؤال	مواد آزمون
۴۵ دقیقه	۳۰	هوش کلامی، هوش منطقی، هوش تصویری، هوش تجسمی، هوش محاسباتی، هوش تجربی
۱۵ دقیقه	۳۰	سرعت و دقت
مدت زمان پاسخگویی: ۶۰ دقیقه		تعداد کل پرسش‌ها: ۶۰

توجه: به ازای هر پاسخ درست، ۳ امتیاز مثبت و به ازای هر پاسخ غلط، ۱ امتیاز منفی در نظر گرفته می‌شود.

منابع آزمون:

کتاب‌های اسمارتیز ششم، هایلایتر، خط‌خط هوش کلامی ششم، ۵ آزمون هوش کلامی پنجم و ششم

مجری آزمون: پویش ناشر کتاب‌های تیزهوشان و نمونه‌دولتی

مرکز نشر و پخش: تهران، خیابان انقلاب، خیابان ۱۲ فروردین،

خیابان وحید نظری، شماره‌ی ۱۲۶، ساختمان پویش

سامانه‌ی پیام کوتاه: ۲۱۶۶۹۶۰۰۰۰

تلفن: ۰۲۱-۶۶۹۶۰۰۰۰ (خط ویژه)

www.pooyeshbook.com

@pooyesh_publishing

pooyeshbook



مجموعه کتابهای

× هایلایتِر ×

[هوش عددی و محاسباتی]



درسنامه کامل + تست + پاسخ تشریحی • هایلایت مهم ترین مباحث هوش محاسباتی
آموزش مهم ترین و پرتکرارترین مباحث هوش عددی (الگوهای عددی، محاسبات عددی، مسائل خلاق و...)
کوتاه، مفید و مختصر • مطابق با آخرین تغییرات آزمون تیزهوشان

مؤلف: مسعود بیگلری



پوش

بچه های باهوش موقع خواندن هر کتاب، بخش های مهم و نکته های کلیدی رو علامت می زنن تا هر وقت خواستن، با نگاه کردن به اون بخش ها، کل کتاب رو با تمام جزئیاتش به یاد بیان. ما هم نوب این مجموعه، مهم ترین بخش های مباحث هوش رو براتون با هایلایتِر شخصی می کنیم.

از مجموعه های تیزهوشان، عناوین زیر منتشر شده:



پوش
چهارم دبیرستان
تهران - میدان نقش جهان - خیابان ۳۴ شهر
خیابان وحدت افکنی، پلاک ۱۱۹ - ساکن
تلفن: ۰۲۱ ۶۶۹۶۰۰۰۰

آموزش مهم ترین و پرتکرارترین مباحث هوش عددی
شامل ۵۰۰ تست + ۵۰ مثال تشریحی (مبحث به مبحث)
مطابق با آخرین تغییرات آزمون تیزهوشان



پوش



۲۱۰۰ پرسش ۴ گزینه‌ای متنوع از فط به فط تمام ۹ کتاب درسی ششم
 لذت یادگیری هوش کلامی با سبکی نوین و جذاب
 پرورش هنر درک مطلب و فهم مسئله
 پاسفنامه‌ای آموزش محور، درست مثل یک کلاس درس





ویرایش جدید

کامل ترین کتاب هوش و فلاقیت

شامل ۸ مبحث هوش و استعداد تحلیلی و بیش از ۵۰۰۰ تست
 (هوش تصویری و تجسمی، هوش محاسباتی، هوش کلامی، هوش منطقی،
 هوش تجربی، هوش سرعتی، آزمون های استاندارد،
 آزمون های شبیه ساز) + کتاب الکترونیکی
 منطبق با آخرین تغییرات آزمون تیزهوشان





۱- در پرسش زیر، واژگان براساس موضوع یا منطقی مشخص، به دنبال هم آمده‌اند. جای خالی را پر کنید.

(کتاب ۵۰ آزمون هوش کلامی پنجم و ششم)

«استخراج / بی‌تاب / پاپيروس / / جلالت»

(۱) درخواست (۲) جاجرود (۳) پارچه (۴) جنگل

⊙ در داخل کمانک، واژه‌ای وجود دارد که به دو صورت تلفظ می‌شود و هر تلفظ معنی متفاوتی دارد (واژگان هم‌نویسه). دو معنی متفاوت را در سمت راست و چپ کمانک نوشته‌ایم. این واژه با کدام حرف پایان می‌پذیرد؟

(کتاب فط به فط هوش کلامی ششم)

۲- عقل و فکر (واژه‌ای سه حرفی) ناچیز

(۱) د (۲) ف (۳) غ (۴) گ

(کتاب فط به فط هوش کلامی ششم)

۳- کدام گزینه بعد از مرتب شدن حروف می‌تواند جمله را تکمیل کند؟

«اطلاعات در رایانه معمولاً به شکل حروف، کلمات، اعداد یا تصاویرند. رایانه برای این اطلاعات به حافظه نیاز دارد.»

(۱) ف ا ت ح ظ (۲) ی ر ذ ه ی خ

(۳) س ا ه د ت ف ا (۴) ش د ا پ ر ز

(کتاب ۵۰ آزمون هوش کلامی پنجم و ششم)

۴- عبارتهای زیر را به‌طور منطقی مرتب کنید.

(الف) و در طی یک سال، زمین در موقعیتهای مختلفی در برابر خورشید قرار می‌گیرد

(ب) به دلیل همین تمایل، زاویه‌ی تابش آفتاب در طول سال تغییر می‌کند

(ج) محور قطب‌ها بر سطح مدار گردش انتقالی زمین، مایل است

(د) درازی شب و روز نامساوی می‌شود و فصل‌های مختلف به‌وجود می‌آید

(۱) د، ج، ب، الف (۲) د، ب، الف، ج (۳) ج، ب، الف، د (۴) ج، د، ب، الف

۵- در صورتی‌که از ترکیب دو واژه‌ی «موزیک و ترانه» واژه‌ی «رازی» ساخته شود، از ترکیب «پیانو و تجهیز» کدام واژه ساخته می‌شود؟

(کتاب ۵۰ آزمون هوش کلامی پنجم و ششم)

(۱) نواز (۲) جوان (۳) جهان (۴) تنها

⊙ با توجه به متن زیر، به پرسش بعدی پاسخ دهید.

گاهی ممکن است یک فرد نظرات و عقایدی داشته باشد که می‌داند درست است و می‌خواهد به آنها پایبند باشد؛ اما هنگام تصمیم‌گیری تحت تأثیر نظرات و صحبت‌های دوستان قرار بگیرد؛ به عبارت دیگر آنها بخواهند با فشار و اصرار، خواسته‌های نادرست خودشان را به او بقبولانند.

(کتاب فط به فط هوش کلامی ششم)

۶- این متن با مفهوم چند بیت شعر داده‌شده همخوانی دارد؟

(۱) گر نشیند فرشته‌ای با دیو وحشت آموزد و خیانت و ریو

(۲) کمال همنشین در من اثر کرد و گرنه من همان خاکم که هستم

(۳) از صحبت دوستی برنجم که اخلاق بدم، حسن نماید

(۴) پسر نوح با بدان بنشست خاندان نبوتش گم شد

(۵) از صحبت نیکان نشود طینت بد، نیک بادام همان تلخ برون از شکر آید

(۱) یک بیت (۲) دو بیت (۳) سه بیت (۴) چهار بیت

(کتاب فط به فط هوش کلامی ششم)

۷- اگر با مرتب‌سازی واژگان، بهترین جمله را بسازید، واژه‌ی قبل از وسط چند هجا (بخش) دارد؟

«آسیب / رایانه‌ای / حافظه / داخل / اطلاعات / به / ویروس‌های / وارد / می‌کنند»

(۱) یک (۲) دو (۳) سه (۴) چهار



۸- یک دستگاه کدگذاری واژه‌ی «سیاوش» را به صورت «شهبوش» نشان می‌دهد. در این دستگاه «سهراب» چگونه نوشته می‌شود؟
(کتاب ۵۰ آزمون هوش کلامی پنجم و ششم)

- (۱) شیزاب (۲) شهراب (۳) شوزاب (۴) سهرپ
 Ⓞ معادل هر عبارت ستون «۱»، مقابل آن در ستون «۲» نوشته شده است. پس از رمزگشایی، به دو سؤال بعدی پاسخ دهید.

ستون ۱	ستون ۲
□ ○ △ ★ ●	۱۲۳۴۵
□ △ ★ ○ □	۷۰۵۴۶
△ ○ □ ▽ ▽	۰۶۷۹۸
★ □ ▽ ○ △	۷۰۹۶۴

۹- کدام عدد مربوط به نماد ★ است؟
(کتاب اسما (رتیز ششم))

(۱) ۶ (۲) ۵ (۳) ۴ (۴) ۲

۱۰- کدام گزینه برابر با ترکیب ▽ ▽ است؟
(کتاب اسما (رتیز ششم))

(۱) ۹۶ یا ۶۹ (۲) ۹۸ یا ۸۹ (۳) ۸۶ یا ۶۸ (۴) ۷۹ یا ۹۷

Ⓞ ماشینی به شکل زیر داریم که اعداد ورودی در آن طبق مراحل ارائه شده تغییر می‌کنند. با توجه به آن، به سؤالات زیر پاسخ دهید.

ورودی	۱۵	۱۲	۱۰	۱۷	۱۱	۱۸	۳	۱۲۰	۱۹	۸	۹
مرحله‌ی ۱	۳	۱۵	۱۲	۱۰	۱۷	۱۱	۱۸	۱۲۰	۱۹	۸	۹
مرحله‌ی ۲	۳	۸	۱۵	۱۲	۱۰	۱۷	۱۱	۱۸	۱۲۰	۱۹	۹
مرحله‌ی ۳	۳	۸	۹	۱۵	۱۲	۱۰	۱۷	۱۱	۱۸	۱۲۰	۱۹

۱۱- کدام عدد زیر عدد مشخص شده قرار خواهد گرفت؟
(کتاب اسما (رتیز ششم))

(۱) ۹ (۲) ۱۷ (۳) ۱۰ (۴) ۱۱

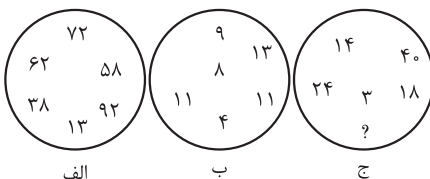
۱۲- ماشین حداکثر چند مرحله خواهد داشت؟
(کتاب اسما (رتیز ششم))

(۱) هفت مرحله (۲) هشت مرحله (۳) نه مرحله (۴) ده مرحله

۱۳- در مجموعه «۱،۰،۲،۳،۰،۱،۲،۳،۴،۲،۱،۵،۳،۲» سومین عدد سمت چپ دومین عدد سمت راست عدد سمت چپی دومین «۲» از سمت چپ، کدام عدد است؟
(کتاب هایلاپتر)

(۱) ۳ (۲) صفر (۳) ۲ (۴) ۴

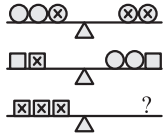
۱۴- در الگوی داده شده، (؟) کدام است؟
(کتاب هایلاپتر)



- (۱) ۱۵ (۲) ۱۲ (۳) ۸ (۴) ۹



(کتاب هایلایتر)



۱۵- کدام است؟

- (۱) ⊗⊗⊗
- (۲) ○⊗⊗
- (۳) ⊗○⊗
- (۴) ○○○

۱۶- شخصی غریبه وارد مجلسی شد و در کمال تعجب دید در این جمع سه پدر و سه پسر و سه مادر شرکت کرده‌اند. در این مجلس حداقل چند نفر حضور دارند؟

(کتاب هایلایتر)

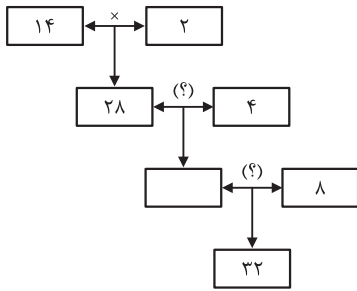
- (۱) ۹
- (۲) ۸
- (۳) ۷
- (۴) ۵

۱۷- به، انبه و سیب سه نوع میوه هستند. اگر وزن ۷ عدد به، برابر ۴ انبه و ۵ انبه نیز هم‌وزن ۶ سیب باشند، کدام مقایسه برای وزن میوه‌ها صحیح است؟

(کتاب هایلایتر)

- (۱) سیب < به < انبه
- (۲) انبه < به < سیب
- (۳) سیب < انبه < به
- (۴) انبه < سیب < به

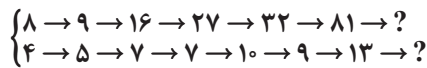
(کتاب اسم‌رتیز ششم)



۱۸- ترتیب علامت‌ها از بالا به پایین کدام است؟

- (۱) + ، -
- (۲) × ، ÷
- (۳) ÷ ، ×
- (۴) + ، +

(کتاب هایلایتر)



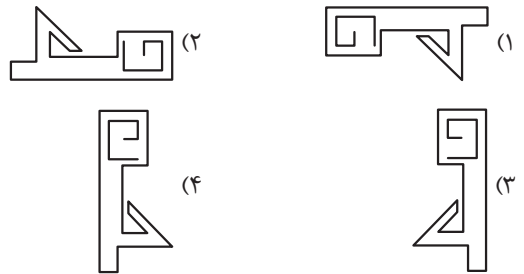
۱۹- عدد بعدی الگو کدام است؟

- (۱) ۷۲
- (۲) ۶۴
- (۳) ۷۲
- (۴) ۶۴
- (۱) ۱۳
- (۲) ۱۲
- (۳) ۱۰
- (۴) ۱۱

(کتاب اسم‌رتیز ششم)

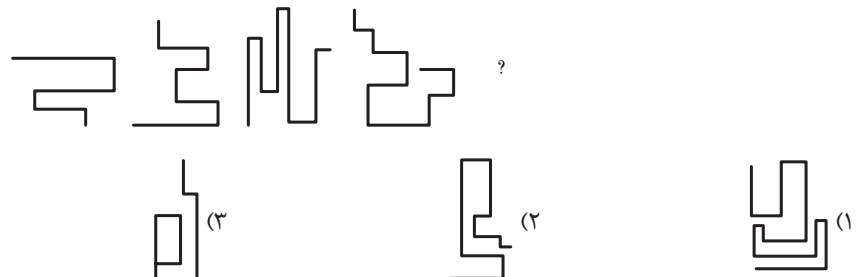


۲۰- دوران یافته‌ی شکل مقابل کدام است؟




(کتاب اسم‌رتیز ششم)

۲۱- کدام گزینه برای ادامه‌ی الگو مناسب است؟



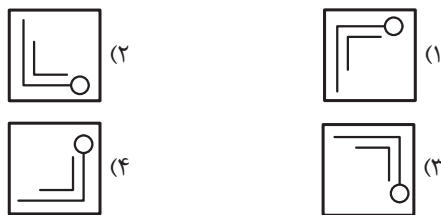


(کتاب اسم) (تیز ششم)

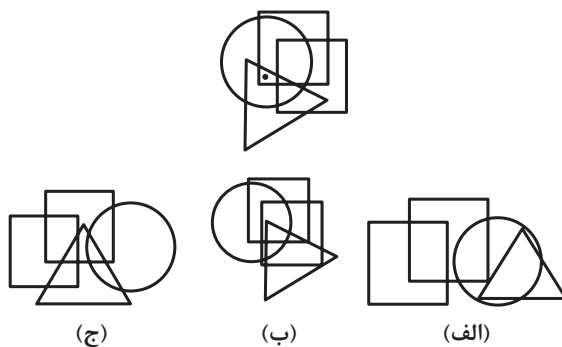


(کتاب اسم) (تیز ششم)

۲۲- کدام گزینه تصویر داده شده را کامل می‌کند؟



۲۳- در چندتا از شکل‌های زیر، ناحیه‌ی مشخص شده با نقطه، موجود است؟



(۴) صفر

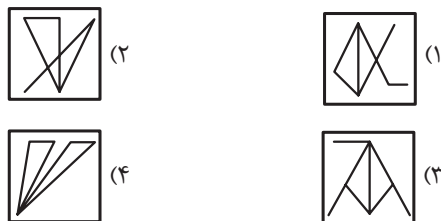
(۳) ۳

(۲) ۲

(۱) ۱

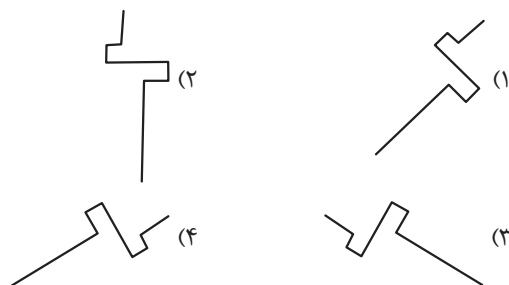
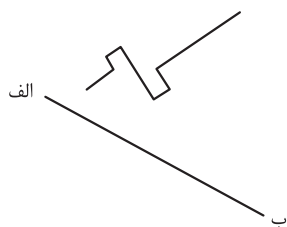
(کتاب اسم) (تیز ششم)

۲۴- با دقت در تصویر داده شده، تصویر پنهان در کدام گزینه وجود دارد؟



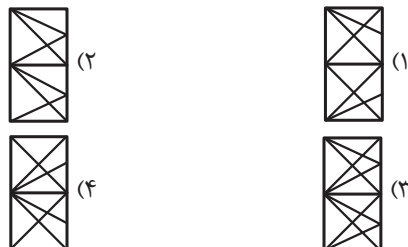
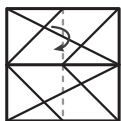
(کتاب اسم) (تیز ششم)

۲۵- در صورتی که شکل داده شده را نسبت به خط «الف ب» قرینه کنیم، کدام گزینه حاصل خواهد شد؟



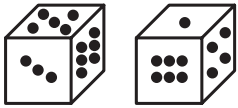
(کتاب اسم) (تیز ششم)

۲۶- در صورت تا کردن کاغذ شفاف الگو، کدام گزینه ایجاد خواهد شد؟





۲۷- شکل‌های زیر دو تصویر از دو جهت یک تاس هستند. وقتی عدد ۱ در کف تاس باشد، کدام عدد بالا قرار می‌گیرد؟ (کتاب اسما، تیز ششم)



۴ (۲)

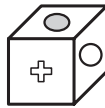
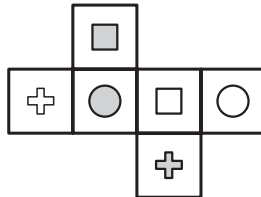
۵ (۱)

۲ (۴)

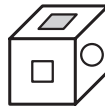
۳ (۳)

(کتاب اسما، تیز ششم)

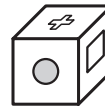
۲۸- چه تعداد از مکعب‌های داده‌شده، با گسترده‌ی زیر مطابقت دارند؟



(الف)



(ب)



(ج)

۴ هیچ‌کدام

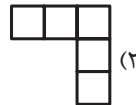
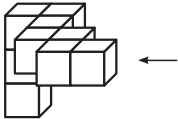
۳ (۳)

۲ (۲)

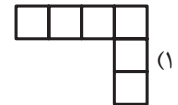
۱ (۱)

(کتاب اسما، تیز ششم)

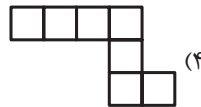
۲۹- در صورتی که چینه‌ی زیر را از زاویه‌ی مشخص‌شده، نگاه کنیم، کدام تصویر را خواهیم دید؟



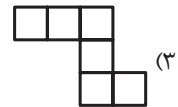
(۱)



(۲)



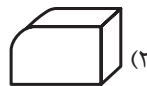
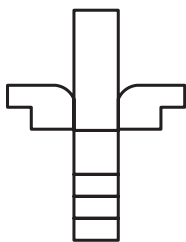
(۳)



(۴)

(کتاب اسما، تیز ششم)

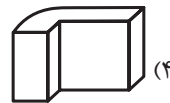
۳۰- در صورتی که گسترده‌ی داده‌شده را ببندیم، کدام گزینه ایجاد خواهد شد؟



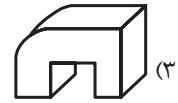
(۱)



(۲)



(۳)



(۴)



در هر یک از سوالات زیر، (؟) را مشخص کنید.

(کتاب اسمارتیز ششم)

۳۱- $3 \rightarrow 7 \rightarrow 11 \rightarrow 15 \rightarrow 19 \rightarrow ?$

(۱) ۲۱ (۲) ۲۲ (۳) ۲۳ (۴) ۲۴

(کتاب اسمارتیز ششم)

۳۲- $164 \rightarrow 172 \rightarrow 180 \rightarrow 188 \rightarrow 196 \rightarrow ?$

(۱) ۲۰۴ (۲) ۲۰۲ (۳) ۲۰۶ (۴) ۲۰۵

(کتاب اسمارتیز ششم)

۳۳- در مجموعه‌ی زیر مجموع ارقام سمت چپ و راست حرف «س» کدام است؟

۴۵ع۳۲ش۶ج۷۳ک۲ل۷۴س۳ج۲ب۳ش۳ل۲اب۴

(۱) ۱۲ (۲) ۴ (۳) ۷۷ (۴) ۱۴

(کتاب ۳۳ آزمون)

۳۴- در چند کلمه از کلمات زیر حروف دو نقطه دقیقاً قبل از حروف سه نقطه آمده‌اند؟

«سیمین، شباب، پشمک، پیام، تپیدن، یدک‌کش، پژمان، پشیمان، تپه، تَشک طَبی، آتش، تشنه»

(۱) پنج (۲) شش (۳) چهار (۴) هفت

(کتاب ۳۳ آزمون)

۳۵- در مجموعه‌ی مقابل ۶ عدد داریم. «۱۷، ۳، ۱۸، ۲، ۵، ۱۵»

دو تا از کوچک‌ترین اعداد را کنار بگذارید. مجموع دو عدد بزرگ‌تر و کوچک‌ترین عدد باقی‌مانده کدام است؟

(۱) ۳۵ (۲) ۴۰ (۳) ۳۷ (۴) ۳۸

(کتاب ۳۳ آزمون)

۳۶- سه روز قبل از جمعه چندشنبه است؟

(۱) دوشنبه (۲) سه‌شنبه (۳) چهارشنبه (۴) یک‌شنبه

(کتاب ۳۳ آزمون)


۳۷- چند کلمه از کلمات زیر، فقط با حروف کلمه‌ی «شتابزده» ساخته شده است؟

«تاب، شتاب، شازده، شب‌زده، شرور، شیوا، شام، شب‌زنگ، آتش، بازده، توبره»

(۱) شش (۲) پنج (۳) چهار (۴) سه

(کتاب ۳۳ آزمون)

۳۸- شکل‌های دو طرف را بررسی کرده و گزینه‌ای را که هر دو شکل آن یکسان نیست، مشخص نمایید.



(کتاب ۳۳ آزمون)

۳۹- اگر بخواهیم حروف کلمات را برعکس (یعنی از آخر به اول) بنویسیم، کدام گزینه صحیح است؟

(۱) گیلان: سالیگ
(۲) بردباری: یرابدی
(۳) سیراب: بارس
(۴) سردرگم: مگدرس

(کتاب ۳۳ آزمون)

۴۰- در شکل زیر، چند دایره می‌بینید؟



(۱) ۲۶
(۲) ۲۵
(۳) ۲۴
(۴) ۲۷



۴۱- کدام یک از کلمات زیر، حرف تکراری ندارد؟
(۱) پیشروی (۲) استدعا (۳) دلبستگی (۴) استدلال (کتاب ۳۳ آزمون)

۴۲- کدام یک از شکل‌های زیر به ترتیب زیر از راست به چپ چیده شده است؟ (چپ: د، راست: ع)
«چپ، بالا، راست، بالا، پایین»

(۱)	∩ U ⊂ ∩ ⊃
(۲)	⊂ U ⊃ ∩ U
(۳)	∩ U ⊂ U ⊃
(۴)	⊂ ∩ ⊃ ∩ U

۴۳- تعداد حرف «ک» در متن زیر، کدام است؟ (کتاب تیک آف)

پیشرفت‌های سریع علمی و افزایش میزان انتشارات مکتوب و غیرمکتوب فرایند دستیابی به اطلاعات را پیچیده و مشکل کرده است. ضرورت برخورد علمی و فنی مناسب با رشد روزافزون انتشارات برای ذخیره و بازیابی اطلاعات به منظور تسریع و افزایش دسترس پذیری آن برای همه‌ی کاربران در سطوح مختلف جامعه اهمیت رشته‌ی کتابداری و اطلاع‌رسانی را افزون کرده است.

۴۴- مهرداد ۳۰ تومان از ۳۰۰ تومان و (الف) تومان از ۲۰۰ تومان، بیشتر دارد. مقدار (الف) کدام است؟ (کتاب تیک آف)

(۱)	۵	(۲)	۷	(۳)	۹	(۴)	۶
(۱)	۱۳۰	(۲)	۲۳۰	(۳)	۷۰	(۴)	۱۷۰

۴۵- تعداد نقطه در کدام گزینه متفاوت است؟ (کتاب تیک آف)

(۱)	آفتاب	(۲)	سازش	(۳)	شمایل	(۴)	شرمزده
-----	-------	-----	------	-----	-------	-----	--------

⊙ با توجه به توضیحات زیر، به سؤالات بعدی پاسخ دهید.

علامت () یعنی عدد درون آن سه برابر می‌شود، { } یعنی عدد درون آن دو برابر می‌شود و [] یعنی عدد درون آن دو برابر شده و یکی از آن کم می‌کنیم.

حاصل هر یک از موارد خواسته شده را از بین گزینه‌های پیشنهادی انتخاب نمایید.

۴۶- ((۲))
(کتاب تیک آف)

(۱)	۶	(۲)	۹	(۳)	۱۸	(۴)	۲۴
-----	---	-----	---	-----	----	-----	----

۴۷- {۲}
(کتاب تیک آف)

(۱)	۹	(۲)	۱۲	(۳)	۱۶	(۴)	۱۳
-----	---	-----	----	-----	----	-----	----

۴۸- {۲}
(کتاب تیک آف)

(۱)	۹	(۲)	۱۲	(۳)	۱۶	(۴)	۱۳
-----	---	-----	----	-----	----	-----	----

۴۹- کدام گزینه قوانین زیر را رعایت کرده است؟ (کتاب تیک آف)

* ۲ تا ۲ داشته باشد. * ۳ تا ۳ نداشته باشد. * ۵ حتماً بین دو عدد فرد باشد.

(۱)	۷۴۶۳۲۰۰۲۷۵۸	(۲)	۹۶۲۱۳۰۲۳۵۷۲۴۶	(۳)	۸۷۴۱۲۰۱۲۰۱۵۷۵۹	(۴)	۶۷۲۳۶۷۲۳۳۲۱۵۷
-----	-------------	-----	---------------	-----	----------------	-----	---------------

۵۰- گزینه‌ای را که دو سوی آن متفاوت است، مشخص نمایید. (کتاب تیک آف)

(۱) /

(۲) /

(۳) /

(۴) /



۵۱- در دو سؤال بعدی، با توجه به رابطه‌ی واژه‌ها، واژه‌ی بعدی کدام است؟

(کتاب تیک‌آف) ۵۱- ستاره، آسمان، آرد، نانواپی، گل، گلدان،
 (۱) سماغ، سیر (۲) صدا، حنجره (۳) آشیانه، پرنده (۴) فلفل، تند

(کتاب تیک‌آف) ۵۲- آفاق، ب، شهین، ص، فریبا، ق،
 (۱) مهتاب، ل (۲) گلشید، ک (۳) نازنین، و (۴) پریا، ث
 ۵۲- با توجه به متن زیر، به دو سؤال بعدی پاسخ دهید.

علی ۱۲ ساله است. محمد ۱۷ سال سن دارد. رضا ۱۴ سال سن دارد. جابر از علی ۶ سال بزرگ‌تر است. مهرداد با جابر همسن است. مسعود از محمد ۲ سال کوچک‌تر است. آدرین ۱۳ ساله است. حسین از مهرداد ۲ سال بزرگ‌تر است. متین دو سال دیگر، هم‌سن الان مهرداد می‌شود. مجتبی از متین سه سال بزرگ‌تر است.

(کتاب تیک‌آف) ۵۳- جابر چند ساله است؟
 (۱) ۱۲ (۲) ۶ (۳) ۲۳ (۴) ۱۸

(کتاب تیک‌آف) ۵۴- مسعود چند ساله است؟
 (۱) ۱۹ (۲) ۱۵ (۳) ۱۶ (۴) ۲۱

۵۵- در جدول زیر، هر حرف با نمادی بیان شده است. با دقت در آنها، مشخص کنید هر یک از سه سؤال بعدی، کدام حرف را نمایش می‌دهد؟

ا	د	ر	ن	ت	ی	ص	ش	پ	ف	س	خ

(کتاب تیک‌آف) ۵۵- افسرده (۱) راستی (۲) شخصیت (۳) صداقت (۴)
 (کتاب تیک‌آف) ۵۶- سفرخیز (۱) آفرینش (۲) آرامشی (۳) شیرسار (۴)

(کتاب تیک‌آف) ۵۷- سپاس‌داری (۱) شرمساران (۲) پایدارمدار (۳) خرسندان (۴)
 ۵۷- در هر یک از دو سؤال بعدی، سرعت عمل و مهارت شما در عملیات محاسباتی سنجیده می‌شود.

(کتاب تیک‌آف) ۵۸- حاصل ۴۵-۳۶۱ کدام است؟
 (۱) ۳۲۶ (۲) ۳۱۶ (۳) ۳۲۷ (۴) ۳۱۷

(کتاب تیک‌آف) ۵۹- حاصل ۱۷+۳-۱۲+۳۵ کدام است؟
 (۱) ۶۰ (۲) ۶۲ (۳) ۶۱ (۴) ۶۳

(کتاب تیک‌آف) ۶۰- عبارت‌های داده‌شده در دو طرف کدام گزینه با هم متفاوت است؟
 (کتاب اسم‌رتیز ششم)

- سرزمین مادری من، سرزمین مادری من (۱) سرزمین مادری من، سرزمین مادری من
- سرزمین مادری من، سرزمین مادری من (۲) سرزمین مادری من، سرزمین مادری من
- سرزمین مادری من، سرزمین مادری من (۳) سرزمین مادری من، سرزمین مادری من
- سرزمین مادری من، سرزمین مادری من (۴) سرزمین مادری من، سرزمین مادری من

آزمون شبیه‌ساز تیزهوشان ششم

آزمون استاندارد استعداد تحلیلی

موارد آزمون	تاریخ آزمون	شماره آزمون
دفترچه اول هوش تجسمی، هوش تصویری، هوش منطقی، هوش کلامی، هوش ادبی، هوش محاسباتی	۱۴۰۰/۱۱/۱	آزمون ۱
دفترچه دوم سرعت و دقت		
دفترچه اول هوش تجسمی، هوش تصویری، هوش منطقی، هوش کلامی، هوش ادبی، هوش محاسباتی	۱۴۰۰/۱۱/۱۵	آزمون ۲
دفترچه دوم سرعت و دقت		
دفترچه اول هوش تجسمی، هوش تصویری، هوش منطقی، هوش کلامی، هوش ادبی، هوش محاسباتی	۱۴۰۰/۱۱/۲۹	آزمون ۳
دفترچه دوم سرعت و دقت		
دفترچه اول هوش تجسمی، هوش تصویری، هوش منطقی، هوش کلامی، هوش ادبی، هوش محاسباتی	۱۴۰۰/۱۲/۱۳	آزمون ۴
دفترچه دوم سرعت و دقت		
دفترچه اول هوش تجسمی، هوش تصویری، هوش منطقی، هوش کلامی، هوش ادبی، هوش محاسباتی	۱۴۰۱/۱/۲۶	آزمون ۵
دفترچه دوم سرعت و دقت		
دفترچه اول هوش تجسمی، هوش تصویری، هوش منطقی، هوش کلامی، هوش ادبی، هوش محاسباتی	۱۴۰۱/۲/۹	آزمون ۶
دفترچه دوم سرعت و دقت		
دفترچه اول هوش تجسمی، هوش تصویری، هوش منطقی، هوش کلامی، هوش ادبی، هوش محاسباتی	۱۴۰۱/۲/۲۳	آزمون ۷
دفترچه دوم سرعت و دقت		
دفترچه اول هوش تجسمی، هوش تصویری، هوش منطقی، هوش کلامی، هوش ادبی، هوش محاسباتی	۱۴۰۱/۳/۲۰	آزمون ۸
دفترچه دوم سرعت و دقت		

آزمون‌های
احتمالی



www.pooyeshbook.com



[pooyesh_publishing](https://t.me/pooyesh_publishing)



[pooyeshbook](https://www.instagram.com/pooyeshbook)

برای ثبت نام و کسب اطلاعات بیشتر با شماره ۰۲۱-۶۶۹۶۰۰۰۰ تماس بگیرید.

