

نام:
نام خانوادگی:
کلاس:

ارزشیابی مستمر ماهانه
ریاضی سوم دبستان



بودجه‌بندی: فصل ۱

الف) جاهای خالی را با عبارات مناسب کامل کنید.

۱- اگر یک شکل متقارن را از روی خط تقارن تا کنید دو نیمه‌ی آن هستند و می‌توانند به‌طور کامل یکدیگر را



ب) گزینه‌ی صحیح را انتخاب کنید.

۲- کدام گزینه ادامه‌ی الگوی مقابل است؟

....., , , ۱۵, ۱۰, ۵

- الف) ۱۰, ۱۵, ۲۰ ب) ۲۰, ۲۵, ۳۰ ج) ۲۰, ۲۲, ۲۴ د) ۲۰, ۳۰, ۴۰

۳- رابطه‌ی بین اعداد در الگوی مقابل کدام است؟

۳, ۶, ۹, ۱۲, ۱۵

- الف) ۲ تا ۲ تا ب) ۵ تا ۵ تا ج) ۳ تا ۳ تا د) ۱۰ تا ۱۰ تا



ج) به پرسش‌های زیر پاسخ کامل دهید.

۴- الگوهای عددی زیر را ادامه دهید.

الف) ۰, ۶, ۱۲, ,

ب) , , ۳۵۰, ۴۰۰, ۴۵۰

۵- حاصل جمع‌های زیر را به روش‌های مختلف پیدا کنید.

الف) $۳ + ۸ + ۵ + ۷ + ۵ = \dots\dots\dots$

ب) $۸ + ۹ + ۲ + ۱ + ۵ = \dots\dots\dots$

پ) $۵ + ۷ + ۳ + ۴ + ۶ = \dots\dots\dots$

۶- با استفاده از ماشین حساب الگوهای زیر را ادامه دهید و درباره‌ی الگوهای هر کدام توضیحی بنویسید.

الف) ۰, ۱۳, ۲۶, ۳۹, , ,

ب) ۰, ۹, ۱۸, ۲۷, , ,

پ) ۱, ۱۲, ۲۳, ۳۴, , ,

۷- الگوهای شمارشی را رو به عقب کامل کنید.

(الف) , , , , ۴۰ , ۴۵ , ۵۰

(ب) , , , , ۲۶ , ۲۸ , ۳۰

(پ) , , , , ۴۲ , ۴۹ , ۵۶

۸- خانه‌ی زهرا در یک ساختمان ۱۰ طبقه است. هر طبقه‌ی آن ساختمان ۴ واحد دارد.

(الف) ۲ طبقه‌ی آن چند واحد دارد؟

(ب) ۳ طبقه‌ی آن چند واحد دارد؟

(پ) ۷ طبقه‌ی آن چند واحد دارد؟

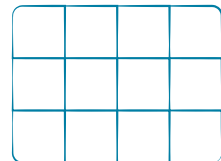


۹- اتوبوسی ساعت ۶ صبح از اهواز حرکت کرد پس از ۷ ساعت به خرم‌آباد رسید، این اتوبوس ساعت چند بعدازظهر به خرم‌آباد رسیده است؟

۱۰- چهار نفر از دانش‌آموزان یک کلاس قرار گذاشتند تا برای آموزگار خود یک دسته گل تهیه کنند. چنانچه نفر اول ۳ شاخه گل و نفرات بعدی هر کدام یک شاخه گل بیشتر از نفر قبلی خود تهیه کنند، در پایان دسته گل دارای چند شاخه گل است؟

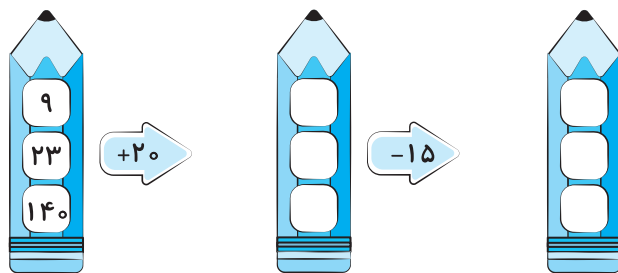
۱۱- با رقم‌های ۷، ۴ و ۸ بزرگ‌ترین و کوچک‌ترین عدد سه رقمی را بنویسید، سپس اختلاف آنها را حساب کنید.

۱۲- یک برنامه‌ی رادیویی در ساعت ۱۶ پخش می‌شود، زمان پخش این برنامه ساعت چند بعدازظهر است؟


۱۳- مربع‌های شکل زیر را به سه روش دسته‌بندی کنید و با شمارش چندتا چندتا تعداد آنها را به دست آورید؟



۱۴- جاهای خالی را با اعداد مناسب کامل کنید.



۱۵- جواب خروجی و ورودی‌ها را حساب کنید.



۱۶- جدول زیر را کامل کنید.

۱۶		۱۷:۱۵		۲۲ و ربع
	۲:۲۵		۶:۳۰	

۱۷- یک مغازه‌دار دفتری را ۳۵۰ تومان می‌خرد و ۴۰۰ تومان می‌فروشد.

پس از پر کردن جدول زیر به سؤال‌ها پاسخ دهید.

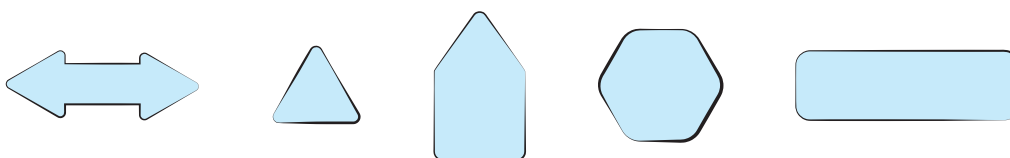
الف) اگر سه دفتر بفروشد چند ریال سود می‌کند؟

ب) چند دفتر بفروشد تا ۲۰۰ ریال سود کند؟

پ) چند دفتر بفروشد تا با سود آن یک دفتر بخرد؟

دفتر	۱				
سود	۵۰				

۱۸- خط تقارن شکل‌های زیر را رسم کنید.



بازخورد توصیفی آموزگار:

مواردی که باید در آن تمرین و آموزش داشته باشی:

خودسنجی: از عملکرد خود راضی هستم نیستم چون

و پاسخ به سؤال‌های برایم دشوار بود.

نظر اولیا: نظر همکلاسی:

نام:

نام خانوادگی:

کلاس:

ارزشیابی مستمر ماهانه
علوم تجربی سوم دبستان


ماه مهر

بودجه‌بندی: صفحه‌های ۹ تا ۱۹

الف) درستی یا نادرستی عبارتهای زیر را مشخص کنید.

- | | | |
|-----------------------|-----------------------|---|
| <input type="radio"/> | <input type="radio"/> | ۱- همیشه پژوهش با طرح یک سؤال یا پرسش آغاز می‌شود. |
| <input type="radio"/> | <input type="radio"/> | ۲- بیشترین اطلاعات را از طریق حس چشایی به دست می‌آوریم. |
| <input type="radio"/> | <input type="radio"/> | ۳- برای آنکه پژوهش‌گر خوبی باشیم، باید همه چیز را با دقت مشاهده کنیم. |
| <input type="radio"/> | <input type="radio"/> | ۴- به تاریخی که دیگر یک ماده‌ی غذایی قابل استفاده نیست، «تاریخ تولید» می‌گویند. |
| <input type="radio"/> | <input type="radio"/> | ۵- بهتر است آجیل را در جای خشک و خنک نگهداری کنیم. |

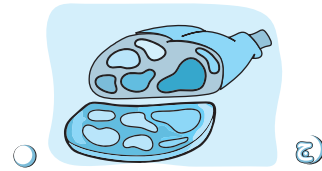

ب) جاهای خالی را با عبارتهای مناسب کامل کنید.

- ۶- اولین گام در پژوهش، است.
- ۷- برای اینکه اطلاعاتی را فراموش نکنیم باید آنها را کنیم.
- ۸- استفاده‌ی زیاد از و به بدن آسیب می‌رساند.
- ۹- گروه  دارای هستند.
- ۱۰- بعضی از مواد غذایی باید دور از و نگهداری شوند.

ج) گزینه‌ی صحیح را انتخاب کنید.

- ۱۱- جمع‌آوری اطلاعات با استفاده از حواس پنجگانه چه نام دارد؟
- مشاهده‌ی دقیق پژوهش
- سؤال مصاحبه
- ۱۲- آخرین مرحله‌ی پژوهش چیست؟
- پرسش آزمایش ارائه‌ی گزارش استفاده از اینترنت
- ۱۳- گروه گوشت و لبنیات چه کمکی به بدن می‌کنند؟
- تأمین ویتامین بدن باعث رشد بدن
- تأمین انرژی بدن همه‌ی موارد

۱۴- کدام گروه از مواد غذایی ویتامین ندارند و فقط انرژی بدن را تأمین می‌کنند؟



۱۵- جمع‌آوری نظرات دیگران درباره‌ی یک موضوع به صورت کتبی، چه نام دارد؟

- الف مصاحبه ب پرسش‌نامه ج گزارش د نظریه

د) به پرسش‌های زیر پاسخ کامل دهید.

۱۶- برای گردآوری اطلاعات از چه روش‌هایی استفاده می‌کنیم؟

۱۷- مراحل یک پژوهش را به ترتیب بنویسید.

۱۸- خوراکی‌ها یا مواد غذایی به چند گروه تقسیم می‌شوند؟

۱۹- مواد نگهدارنده در مواد غذایی چه نقشی دارند؟

بازخورد توصیفی آموزگار:

مواردی که باید در آن تمرین و آموزش داشته باشی:

خودسنجی: از عملکرد خود راضی هستم نیستم چون

و پاسخ به سؤال‌های برایم دشوار بود.

نظر اولیا: .. نظر همکلاسی:

نام:

نام خانوادگی:

کلاس:


ارزشیابی مستمر ماهانه

فارسی سوم دبستان

ماه مهر

بودجه‌بندی: صفحه‌های ۱۰ تا ۲۴

الف) درستی یا نادرستی عبارتهای زیر را مشخص کنید.



۱- امید از اینکه هیچ دوستی در محله‌ی جدید نداشت، خیلی خوشحال بود.

۲- ورزش برای سلامتی مفید است.

۳- برای یادگیری رشته‌ی ورزشی باید تمرین زیادی کرد.

ب) جاهای خالی را با عبارات مناسب کامل کنید (از کلمات داخل کادر استفاده کنید).

قنادی - قبلاً - فضای - معرفی - لباس - ورزشی - خاطرات

۴- امیر خود را به دوستانش کرد.

۵- با شنیدن داستان به یاد تیم فوتبال محله‌ی قدیمی خود افتاد.

۶- بوستان، سبز بسیار زیبایی داشت.

۷- با دیدن به یاد کیک تولدش افتاد.

۸- من دروازه‌بان تیم بهارستان بودم.

ج) گزینه‌ی صحیح را انتخاب کنید.

۹- شاعر شعر «پدر بزرگ» چه کسی است؟

- الف) فریبا کلهر
- ب) ناصر کشاورز
- ج) سرور کتبی
- د) مژگان بابامرندی

د) عبارتهای مرتبط را به هم وصل کنید.

۱۰- کلمه‌های سمت راست را با کلمه‌های مناسب در سمت چپ کامل کنید.

- الف) من درس
- ب) علی و دوستش درس
- پ) تو درس
- ت) من و خواهرم درس
- می خوانی
- می خوانیم
- می خوانم
- می خوانند

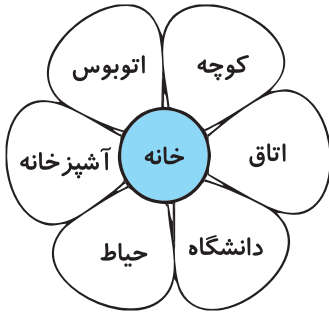
به پرسش‌های زیر پاسخ کامل دهید.

۱۱- دور کلماتی که املایشان نادرست است، خط بکشید و شکل صحیح آنها را بنویسید.

سف - جمعیت - عضمتی - اطراف - صبت نام - برگذار

.....

۱۲- کلماتی که به خانه مربوط می‌شوند را رنگ کنید.



۱۳- جمله‌های زیر را بخوانید و شکل صحیح آنها را بنویسید.

الف) من از تماشای فوتبال لذت می‌برید:

ب) علی دیروز به مدرسه رفتند:

پ) بچه‌ها خوب درس می‌خوانی:

۱۴- جمله‌ی ناتمام زیر را کامل کنید.

هوای آلوده،

۱۵- برای هر نشانه یک مثال بیاورید.

کلماتی که (ح) دارند:

کلماتی که (ض) دارند:

کلماتی که (ظ) دارند:

۱۶- دور کلماتی که تشدید دارند، خط بکشید.

موفقیت - اصلاً - مسری - نقاشی - معرفی - داور - محله - دروازه

۱۷- کلمه‌های زیر را در قسمت مناسب بنویسید.

خانواده - مادر - خاطره - دروازه - درخت - شیرینی - کودک - موجود - لحظه

کلمه‌هایی که با (ها) می‌آیند.	کلمه‌هایی که با (ان) می‌آیند.	کلمه‌هایی که با (ات) می‌آیند.

۱۸- کامل کنید.

خاطرات، یعنی

لحظات، یعنی

قطعات، یعنی

۱۹- با کلمات زیر جمله بسازید.

بازارچه :

ثبت نام:

صفا:

جمعیت:

۲۰- جملات زیر را مرتب کنید.

هنوز جدید نکرده بود محله‌ی عادت به

تعداد زیادی در مغازه کوچک وجود دارد بازارچه و دکان بزرگ و

۲۱- کلمات کدام دسته به هم ربط ندارند؟ (دور کلمه‌ی بی‌ربط خط بکشید).

ورزش - پیروزی - تمرین - درخت

بوستان - زیبایی - خستگی - سرسبزی

۲۲- در درس محله‌ی ما، امید چگونه توانست دوستان زیادی پیدا کند؟

۲۳- درباره‌ی ورزش یک بند بنویسید.

۲۴- در چند جمله محله‌ی خودتان را توصیف کنید.



بازخورد توصیفی آموزگار:

مواردی که باید در آن تمرین و آموزش داشته باشی:

خودسنجی: از عملکرد خود راضی هستم نیستم چون

و پاسخ به سؤال‌های برایم دشوار بود.

نظر اولیا: : نظر همکلاسی: