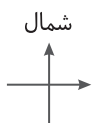


تمرین‌های پیشتر


۴ شکل زیر رسوبات دهانه یک رودخانه را نشان می‌دهد جهت حرکت رود از کدام سمت به کدام سمت بوده است؟ برای پاسخ خود دلیل بیاورید.



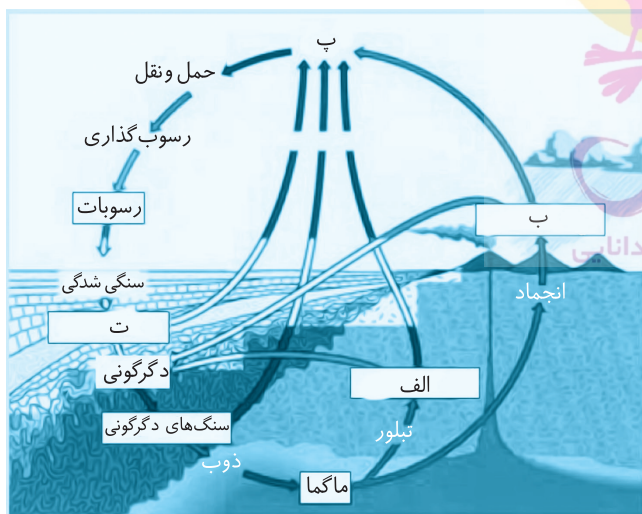
۱ با استفاده از جعبه کلمات نمودار مفهومی انواع هوازدگی و عوامل به وجود آورنده هر یک را رسم کنید.

انجماد آب، هوازدگی، گیاهان، فیزیکی، سقوط سنگ‌ها، شیمیایی، اکسیژن، باران اسیدی

۲ با توجه به شکل بگویید گیاهان چگونه باعث هوازدگی در سنگ‌ها می‌شوند؟



۵ شکل زیر چرخه سنگ را نشان می‌دهد، نام قسمت‌های خواسته شده را بنویسید.



۳ در نمودار زیر، سنگ گرانیت دو مسیر هوازدگی را طی کرده است، نوع هوازدگی هر مسیر را از روی مواد تولید شده مشخص کنید.

