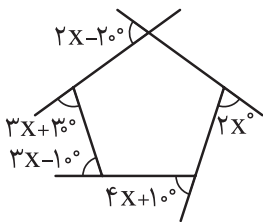


۴ اندازه هر زاویه خارجی یک ۱۵ ضلعی منتظم، چند درجه است؟

.....
.....

۵ در شکل زیر، اندازه x چند درجه است؟

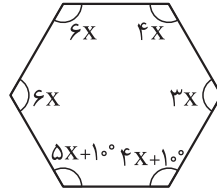


.....
.....

۶ در یک چهارضلعی، اندازه سه تا از زاویه‌ها ۸۵، ۱۱۵ و ۴۰ درجه است. زاویه چهارم را پیدا کرده و اندازه هر یک از زاویه‌های خارجی آن را پیدا کنید.

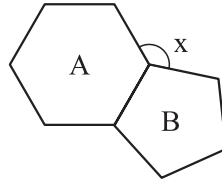
.....
.....
.....

۱ در شکل زیر، x چند است؟



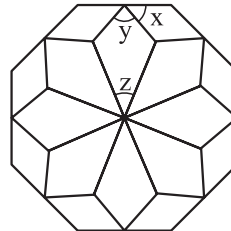
.....

۲ در شکل زیر، شکل‌های A و B به ترتیب ۵ ضلعی منتظم و ۶ ضلعی منتظم هستند. اندازه x چند درجه است؟



.....

۳ در کاشی‌کاری زیر، اندازه زاویه‌های x ، y و z را مشخص کنید.



.....