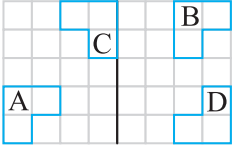
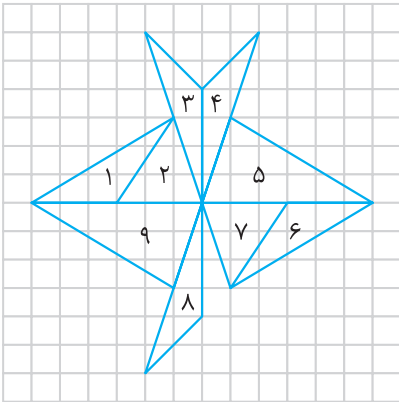


۳ در شکل داده شده، آیا A، B، C و D با هم هم‌نهشت هستند؟



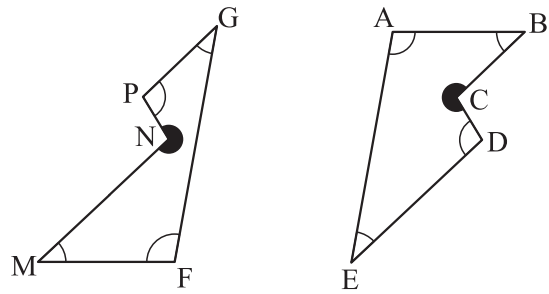
۴ در شکل زیر مثلث‌های هم‌نهشت را مشخص و تعیین کنید این مثلث‌ها با چه تبدیل‌هایی بر هم منطبق می‌شوند.



۵ شکل‌های زیر، هم‌نهشت هستند. با چه تبدیلی، شکل A به شکل B منطبق می‌شود؟



۱ دو شکل زیر هم‌نهشت هستند، اجزای متناظر آن‌ها را بنویسید.



۲ در هر قسمت، دو شکل هر قسمت هم‌نهشت هستند. اندازه‌های خواسته شده را به دست آورید.

