

۴

لاسنبه

آدینه برك هفتگی

نسل نوین کار و تمرین

بایه چهارم

۱) جمع بندی هفتگی درس ها

۲) پوشش مطالب کلیدی برای هر هفته آموزشی

۳) مطابق زمان دانش آموز امروز

۴) ارزان، کارا و کامل

۵) تأثیرگذاری بیش تر با صرف زمان کم تر

مثل یه ته دیگ که آخر غذاست و خیلی هم خوشمزه ست، ما هم

تمرینات آخر هفته خوشمزه ای براتون آماده کردیم

هر پرسشی در حوزه آموزش ابتدایی دارید، لینک کانال های استاد مریم عزیزی (برگزارکننده دوره های ضمن خدمت فرهنگیان) را در اینستاگرام پوشش (pooyeshbook) دریافت کنید و همچنین علاوه بر محتوای آموزشی کانال ها، هر هفته در لایو رایگان که جهت دانش افزایی

توسط ایشان برگزار می شود، شرکت نمایید.

شماره

۶

بودجه‌بندی: فارسی: درس چهارم - ارزش علم / ریاضی: فصل دوم - جمع و تفریق  
کسر ها / علوم: درس چهارم - انرژی الکتریکی / مطالعات اجتماعی: درس پنجم - زندگی  
در شهر و روستا / هدیه‌های آسمان: درس پنجم - سخنی که سه بار تکرار شد.

۱ معنی هر واژه را بنویسید.

برافراشته	حکیم	قصد	نیک‌نامی
.....	.....	.....	.....

۲ واژه‌های زیر را از حالت جمع خارج کنید و مفرد آن را بنویسید.

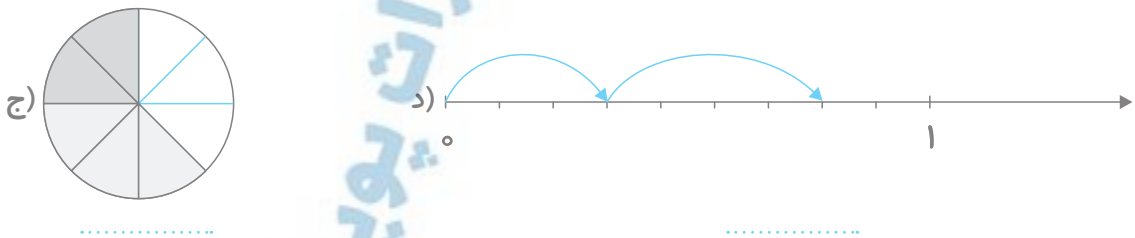
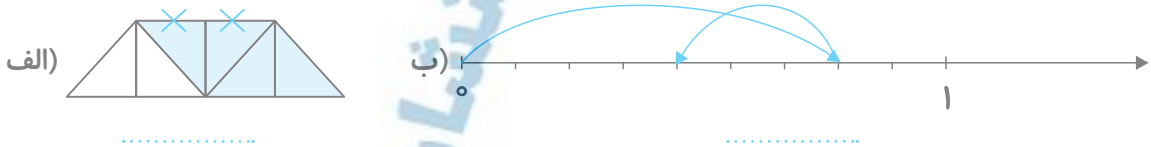
مردمان	ساعات	جوانان	امواج
.....	.....	.....	.....

۳ زمان هر جمله را مشخص کنید.

- (الف) زهرا فردا به نمایشگاه خواهد رفت.  گذشته  حال  آینده
- (ب) مدرسه‌ی ما سال قبل به‌عنوان مدرسه‌ی نمونه انتخاب شد.  گذشته  حال  آینده
- (ج) امروز تولد خواهرم است.  گذشته  حال  آینده

۴ متنی بنویسید و در آن کلمه‌های «علم، دوست و صحبت» استفاده کنید.

۵ برای هر شکل یا محور، جمع و تفریق بنویسید و حاصل را به‌دست آورید.



۶ سعید  $\frac{9}{18}$  از کتابی را امروز و  $\frac{3}{18}$  کتاب را دیروز خوانده است. او چه کسری از کتاب را خوانده و چه کسری از کتابش مانده است؟

۷ جاهای خالی را کامل کنید.

الف)  $\frac{9}{15} - \frac{7}{15} + \frac{\square}{\square} = \frac{9}{15}$

ب)  $\frac{5}{10} + \frac{3}{10} - \frac{6}{10} = \frac{2}{\square}$

ج)  $\frac{\square}{13} + \frac{8}{\square} = \frac{10}{\square}$

۸ عدد مخلوط داده شده را روی شکل و محور نشان دهید.

الف)  $5\frac{1}{4}$  (محور)

ب)  $3\frac{1}{2}$  (شکل)

۹ جدول را کامل کنید.

تبدیل انرژی	وسیله
	رادیو
	لامپ
	اتو

۱۰ چرا باید از مصرف بی‌جای سوخت جلوگیری کنیم؟

۱۱ سه تفاوت بین شهر و روستا را بنویسید.

۱۲ جاهای خالی را کامل کنید.

الف) همیشه ..... بر لبان پیامبر بود.

ب) جار به معنای ..... است.

ج) حضرت علی (ع)، ..... و ..... از یاران پیامبر بودند.

د) حضرت رسول (ص) فرمودند: «هر کس همسایه‌اش از شر او در امان نباشد، ..... نیست.»





۱ کدام یک از عبارتهای زیر جمله‌ای کامل است؟

- الف) رفتند.
- ب) غذایی را خوردم.
- ج) دانش‌آموزان با خوشحالی به مدرسه
- د) مادرم به بازار
- ه) علیرضا به استخر رفت.
- و) نوشتم.

۲ مخالف واژه‌های داده‌شده را بنویسید.

گران‌بها	کمیاب	قوی	شروع
.....	.....	.....	.....

۳ معنی واژه‌های زیر را بنویسید.

ارمغان	اندوهگین	غوغا	استقبال
.....	.....	.....	.....
بزرگان	همتا	خواجه	چیره‌دست
.....	.....	.....	.....

۴ متنی بنویسید و در آن از واژه‌های «معلم، دقیق و آزمایش» استفاده کنید.

۵ تقسیم‌های زیر را به صورت خلاصه انجام دهید.

$$۱۹ \mid ۵۷۸ \text{ (الف)}$$

$$۱۸ \mid ۳۸۳ \text{ (ب)}$$

۶ کارخانه کفش ملی در ۱۲ روز ۹۱۲۰ جفت پوتین تولید کرده است.

الف) این کارخانه روزی چند جفت پوتین تولید کرده است؟

ب) اگر قیمت هر جفت پوتین ۳۵۷۰۰ تومان باشد، درآمد روزانه‌ی این کارخانه، چند تومان است؟



۷) مریم و مینا هر کدام روزی ۷۵ تومان پس انداز می کنند. آیا بعد از یک ماه می توانند با هم یک عروسک ۲۱۶۰۰۰ تومانی و یک بازی فکری ۲۹۴۰۰۰ تومانی را بخرند؟

۸) جاهای خالی را کامل کنید.

الف) ۱ هفته یعنی ..... روز.

ب) ۲۸۹۰ دقیقه یعنی ..... ساعت و ..... دقیقه.

ج) ۲۴ ساعت یعنی ..... دقیقه.

۹) جاهای خالی را کامل کنید.

• است - ستاره - نیست - دُبّ اکبر - فاصله - خرس بزرگ •

الف) اجرام آسمانی کروی شکل را که از خود نور تولید می کنند، ..... می نامند.

ب) فاصله‌ی ستارگان تا زمین یکسان ..... .

ج) ..... مجموعه‌ای از ستارگان در آسمان است که به شکل ..... تصور می شود.

د) علت تفاوت در روشنایی ستارگان ..... آنها تا زمین است.

۱۰) چرا آثار و اشیای تاریخی با ارزش هستند؟

۱۱) جاهای خالی را کامل کنید.


الف) شهر همدان در دامنه‌ی کوه ..... است.

ب) منطقه‌ی تاریخی ..... در همدان قرار دارد.

ج) تپه‌ی هگمتانه مربوط به دوران ..... است.

د) آریایی یعنی ..... .

۱۲) با توجه به سنّ کم امام جواد (ع) دانش آن حضرت چگونه بود؟



نام:

نام خانوادگی:

# آدینه برگ هفتگی پایه چهارم دبستان

نام معلم:

۱ جدول‌های زیر را کامل کنید.

واژه	مخالف
بی‌فایده	
ناپسند	

واژه	هم‌خانواده
عمل	
علم	

واژه	معنی
عطار	
طبله	

۲ مفهوم جمله‌ی «مشک آن است که خود ببوید نه آنکه عطار بگوید» چیست؟

۳ نمودار جمله‌ها را بکشید.

(الف) علی سیب را خورد.

(ب) حسن گل را چید.

(ج) برادر مهربانم، پنجره را بست.

۴ یکی از حکایت‌های درس چهارده را انتخاب کنید و به زبان ساده‌ی امروزی بازنویسی کنید.

۵ مقایسه کنید و علامت  $< = >$  قرار دهید.

(الف)  $3/7 + 20/5$    $19/6 + 4/6$     (ب)  $5/3 - 2/9$    $2/3$

۶ چوب‌پرده در ارتفاع  $2/3$  متر نصب شده است. اگر قد حامد  $1/8$  متر باشد، چوب‌پرده چه متر از او بالاتر است؟

شماره

۲۴

بودجه‌بندی: فارسی: درس چهاردهم - ادب از که آموزشی / ریاضی: فصل ششم -  
شکل‌های هندسی / علوم: درس یازدهم - بی‌مهره‌ها / مطالعات اجتماعی: درس پانزدهم  
- کوه‌ها و دشت‌های زیبا / هدیه‌های آسمان: درس پانزدهم - یک ماجرای زیبا



۷ سبزه

چهارم دبستان

شماره

۲۴

۴۷

۷ جمع و تفریق عددهای اعشاری زیر را در جدول ارزش مکانی انجام دهید.

الف)  $1/9 + 1/8$

ب)  $2/3 - 1/5$

۸ اندازه‌های بیان شده را در جدول ارزش مکانی قرار دهید.

الف) طول میز ما از  $1/2$  متر،  $5/5$  متر بیش تر است.

طول میز : ..... + ..... = .....

ب) طول مانتوی افسانه  $1/9$  متر بود، پس از شسته شدن،  $6/6$  متر آب رفت.

طول مانتوی افسانه : ..... - ..... = .....

۹ تفاوت بین مار و کرم خاکی چیست؟

۱۰ ویژگی‌های عنکبوتیان را بنویسید.

۱۱ به نظر شهید بابایی چرا کمک کردن به دیگران باعث موفقیت او می‌شد؟

۱۲ جاهای خالی را کامل کنید.

الف) به کوه‌هایی که مانند زنجیر به هم متصل هستند، ..... می‌گویند.

ب) بلندترین قله‌ی ایران ..... است که  $5610$  متر ارتفاع دارد.

ج) به زمین‌هایی صاف و هموار ..... گفته می‌شود.

د) به شن، ماسه و گل و لای که رودها همراه خود می‌برند، ..... می‌گویند.

ه) رشته‌کوه زاگرس در ..... و ..... ایران قرار دارد.

