

پایه ی پنجم

ماه / درس	مهر	آبان	آذر	دی	بهمن	اسفند	فروردین	اردیبهشت
ریاضی	فصل ۱ عددنویسی و الگوها	فصل ۲ کسر	فصل ۳ تا آخر تناسب	از فصل ۱ تا ۴ تا آخر زاویه و نیمساز	فصل ۴ و ۵ تا آخر تفریق اعشاری	فصل ۵ ضرب و اعشاری و فصل ۶ تا آخر محیط دایره	از فصل ۴ چند ضلعی ها تا پایان فصل ۶	کل کتاب
فارسی	ستایش و فصل اول درس ۱ و ۲	فصل ۲ درس ۳ و ۴ و ۵	فصل ۳ درس ۶ و ۷ و ۸	از فصل ۱ تا ۴ تا آخر درس ۱۰	درس ۱۱ و ۱۲ و ۱۳	درس ۱۴ و ۱۵	درس ۱۱ تا ۱۶	کل کتاب
علوم	درس ۱ و ۲	درس ۳ و ۴ تا مانند زمین شناسان	درس ۴ و ۵	درس ۱ تا آخر ۶	درس ۷	درس ۸ و ۹	درس ۷ تا آخر ۱۱	کل کتاب
مطالعات	فصل ۱	فصل ۲ تا پایان درس ۸	فصل ۲ درس ۹ و ۱۰ و فصل ۳	فصل ۱ تا ۳ تا آخر درس ۱۳	تا درس ۱۶	تا درس ۱۹	از فصل ۴ تا ۵ تا آخر درس ۲۰	کل کتاب
هدیه	درس ۱ و ۲	درس ۳ تا ۵	درس ۶ تا ۸	درس ۱ تا آخر درس ۱۰	درس ۱۱ و ۱۲	درس ۱۳ و ۱۴	درس ۱۱ تا آخر درس ۱۶	کل کتاب

پایه ی ششم

ماه / درس	مهر	آبان	آذر	دی	بهمن	اسفند	فروردین	اردیبهشت
ریاضی	فصل ۱ عدد و الگوهای عددی	فصل ۲ کسر	فصل ۳ اعداد اعشاری	فصل ۱ تا فصل ۴ تا پایان محورهای مختصات	فصل ۴ و فصل ۵ تا پایان مساحت دایره	فصل ۵ و فصل ۶ تا پایان درصد	فصل ۴ تا آخر فصل ۶	کل کتاب
فارسی	فصل ۱ درس ۱ و ۲	فصل ۲ درس ۳ و ۴ و ۵	فصل ۳ درس ۶ و ۷ و ۸	از فصل ۱ تا آخر درس ۱۰	درس ۱۱ و ۱۲ و ۱۳	درس ۱۴ و ۱۵	درس ۱۱ تا آخر درس ۱۶	کل کتاب
علوم	درس ۱ و ۲	درس ۳ و ۴	درس ۵ و ۶	درس ۱ تا آخر ۷	درس ۸ و ۹ و ۱۰	درس ۱۱ و ۱۲	درس ۸ تا آخر درس ۱۳	کل کتاب
مطالعات	فصل ۱ درس ۱ و ۲	فصل ۲ و ۳ درس ۳ تا ۶	فصل ۴ و ۵ درس ۷ تا آخر ۱۰	فصل ۱ تا آخر ۷ درس ۱ تا آخر ۱۳	فصل ۸ و ۹ درس ۱۴ تا آخر ۱۷	فصل ۱۰ درس ۱۸ تا ۲۰	فصل ۱۱ درس ۱۵ تا ۲۲	کل کتاب
هدیه	درس ۱ و ۲	درس ۳ و ۴ و ۵	درس ۶ و ۷ و ۸	درس ۱ تا آخر ۹	درس ۱۰ و ۱۱ و ۱۲	درس ۱۳ تا ۱۵	درس ۱۰ تا آخر ۱۶	کل کتاب

## بودجه‌بندی پایه‌ی اول تا ششم پوشش

### پایه‌ی اول

اردیبهشت	فروردین	اسفند	بهمن	دی	آذر	آبان	مهر	ماه / درس
تا صفحه‌ی ۱۷۵	تا صفحه‌ی ۱۶۸	تا صفحه‌ی ۱۵۴	تا صفحه‌ی ۱۳۳	تا صفحه‌ی ۱۰۵	تا صفحه‌ی ۷۷	تا صفحه‌ی ۴۹	تا صفحه‌ی ۲۱	ریاضی
درس ۲۱ و ۲۲	درس ۱۹ و ۲۰	درس ۱۶ و ۱۷ و ۱۸	درس ۱۲ و ۱۳ و ۱۴ و ۱۵	درس ۸ و ۹ و ۱۰ و ۱۱	درس ۵ و ۶ و ۷	درس ۱ و ۲ و ۳ و ۴	نگاره‌ها	فارسی

### پایه‌ی دوم

اردیبهشت	فروردین	اسفند	بهمن	دی	آذر	آبان	مهر	ماه / درس
کل کتاب	فصل ۷ کسر و احتمال	فصل ۶ جمع و تفریق اعداد سه رقمی	فصل ۵ اندازه‌گیری	فصل ۴ عددهای سه رقمی	فصل ۳ اشکال هندسی	فصل ۲ جمع و تفریق اعداد دو رقمی	فصل ۱ عدد و رقم	ریاضی
کل کتاب	درس ۱۶	درس ۱۴ و ۱۵	درس ۱۱ و ۱۲ و ۱۳	درس ۹ و ۱۰	درس ۶ و ۷ و ۸	درس ۳ و ۴ و ۵	درس ۱ و ۲	فارسی

### پایه‌ی سوم

اردیبهشت	فروردین	اسفند	بهمن	دی	آذر	آبان	مهر	ماه / درس
کل کتاب	فصل ۷ آمار و احتمال	فصل ۶ جمع و تفریق	فصل ۵ محیط و مساحت	فصل ۴ پایان ضرب و تقسیم	فصل ۳ عددهای کسری	فصل ۲ عددهای چهار رقمی	فصل ۱ الگوها	ریاضی
کل کتاب	درس ۱۶	درس ۱۳ و ۱۴ و ۱۵	درس ۱۰ و ۱۱ و ۱۲	درس ۸ و ۹	درس ۶ و ۷	درس ۳ و ۴ و ۵	درس ۱ و ۲	فارسی
کل کتاب	درس ۱۳	درس ۱۱ و ۱۲	درس ۹ و ۱۰	درس ۷ و ۸	درس ۵ و ۶	درس ۳ و ۴	درس ۱ و ۲	علوم

### پایه‌ی چهارم

اردیبهشت	فروردین	اسفند	بهمن	دی	آذر	آبان	مهر	ماه / درس
کل کتاب	صفحه‌ی ۱۳۴ تا ۱۴۳	صفحه‌ی ۱۱۹ تا ۱۳۳	صفحه‌ی ۹۷ تا ۱۱۸	صفحه‌ی ۶۸ تا ۹۶	صفحه‌ی ۴۱ تا ۶۷	صفحه‌ی ۲۳ تا ۴۰	فصل اول اعداد و الگوها	ریاضی
کل کتاب	صفحه‌ی ۱۱۲ تا ۱۲۷	صفحه‌ی ۱۰۴ تا ۱۱۱	صفحه‌ی ۸۸ تا ۱۰۲	صفحه‌ی ۷۷ تا ۸۷	صفحه‌ی ۵۴ تا ۷۶	صفحه‌ی ۳۰ تا ۵۲	فصل اول درس ۱ و ۲	فارسی
کل کتاب	صفحه‌ی ۹۰ تا ۹۸	صفحه‌ی ۷۴ تا ۹۰	صفحه‌ی ۵۹ تا ۷۳	صفحه‌ی ۴۹ تا ۵۸	صفحه‌ی ۳۰ تا ۴۸	صفحه‌ی ۱۵ تا ۲۹	درس ۱ و ۲	علوم
کل کتاب	صفحه‌ی ۸۴ تا ۹۲	صفحه‌ی ۷۱ تا ۸۳	صفحه‌ی ۵۶ تا ۷۰	صفحه‌ی ۴۱ تا ۵۵	صفحه‌ی ۲۸ تا ۴۰	صفحه‌ی ۱۳ تا ۲۷	درس ۱ تا ۳	مطالعات
کل کتاب	صفحه‌ی ۱۰۸ تا ۱۱۳	صفحه‌ی ۹۰ تا ۱۰۷	صفحه‌ی ۷۶ تا ۸۹	صفحه‌ی ۵۷ تا ۷۵	صفحه‌ی ۳۸ تا ۵۶	صفحه‌ی ۲۰ تا ۳۷	درس ۱ و ۲	هدیه



به نام خدا  
ارزشیابی مستمر ماهانه  
ریاضی اول دبستان


نام : .....  
نام خانوادگی : .....  
کلاس : .....

بودجه بندی: صفحه ۱ تا ۲۱

۱- شکل سمت چپ را رنگ بزن.




۲- به تعداد هر شکل، خانه‌ی مقابل آن را رنگ کن.

۳- ردیف‌هایی که الگوی منظمی دارند را با ✓ و ردیف‌هایی که الگوی منظمی ندارند را با × مشخص کن.

						<input type="checkbox"/>
						<input type="checkbox"/>
						<input type="checkbox"/>
						<input type="checkbox"/>

۴- الگوی منظم را رنگ کن.



۵- در هر ردیف، دو شکل بعدی کدام است؟ دور آن خط بکش.



(ب)



(الف)

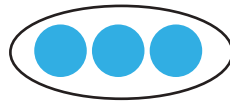
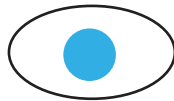
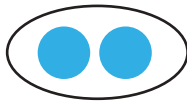


(ب)





(الف)

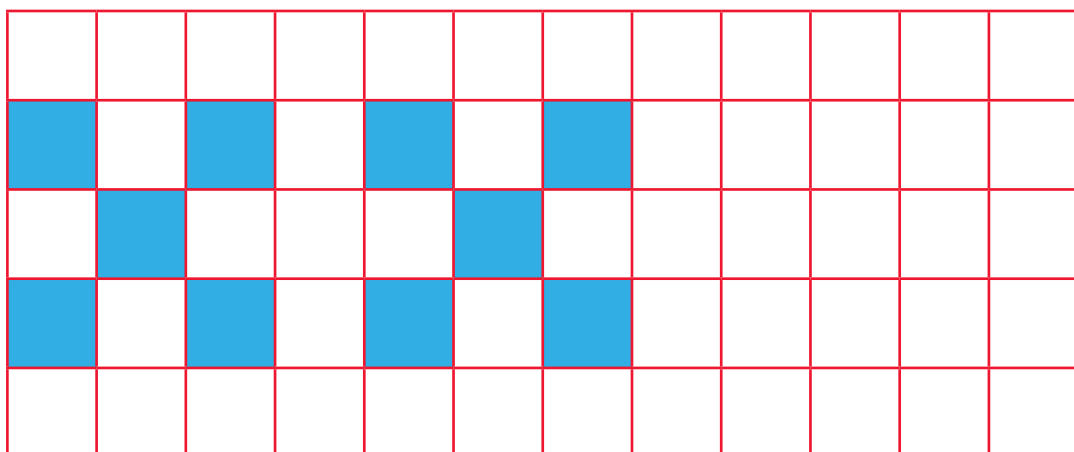
۶- با استفاده از خط کش، هر وسیله را به دسته‌ای که تعداد چرخ‌هایش را نشان می‌دهد وصل کن.



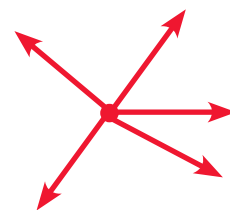
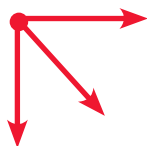
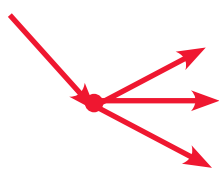
۷- جدول‌های شگفت‌انگیز زیر را با رنگ و شکل داده شده کامل کن.



۸- الگوی زیر را ادامه بده.



۹- هر شکل از چند فلش درست شده است؟ (تعداد هر کدام را با رسم دایره در جای خالی نشان بده).



۱۰- جدول را کامل کن.

	●	● ●	● ● ●
●	● ●		

۱۱- با توجه به شکل، فعالیت خواسته شده را انجام بده.



الف) به تعداد سیب‌های روی درخت، گردی بکش.

ب) به تعداد سیب‌های روی زمین، مربع بکش.

ج) به تعداد سیب‌های داخل سبد، سه گوش بکش.

۱۲- در هر قسمت بگو که پروانه چند خانه به جلو رفته است؟ اگر دو خانه‌ی دیگر جلو برود، چند خانه می‌شود؟ آن را رنگ کن.



--	--	--	--	--



--	--	--	--	--



--	--	--	--	--

باز خورد توصیفی آموزگار: .....

مواردی که باید در آن تمرین و آموزش داشته باشی: .....

خودسنجی: از عملکرد خود راضی هستم  نیستم  چون .....

و پاسخ به سؤال‌های ..... برایم دشوار بود.

نظر اولیا: ..... نظر همکلاسی: .....



به نام خدا  
ارزشیابی مستمر ماهانه  
فارسی اوّل دبستان

نام : .....  
نام خانوادگی : .....  
کلاس : .....

بودجه‌بندی: نگاره‌ها

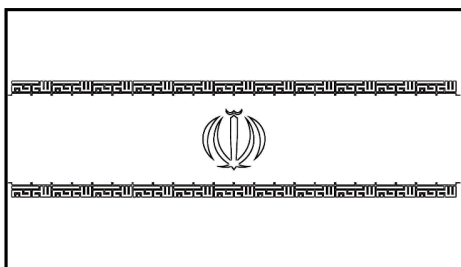
۱- تصاویر مرتبط با هم را با خط‌کش به هم وصل کن.



۲- چراغ راهنمایی را رنگ کن.



۳- پرچم ایران را رنگ کن.



۴- تصویرهای زیر را به توضیح‌های هر کدام وصل کن.



رعایت بهداشت محیط

رعایت صرفه‌جویی

رعایت بهداشت فردی



۵- تصویر صحیح را رنگ کن.



۶- کدام تصویر نشان دهنده‌ی مهربانی با حیوانات است؟ (رنگ کن.)



۷- در تصویر زیر، منبر را قهوه‌ای، قرآن را سبز، رحل را زرد و جانماز را آبی کن.



۸- کدام جانور زیر در سفره‌ی هفت‌سین دیده می‌شود؟ علامت × بزن.


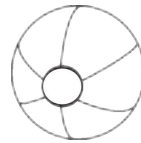




۹- به تعداد بخش‌های هر شکل، از ستاره‌ها رنگ بزن.



۱۰- شکل‌هایی که صدای اوّل آنها مثل هم است، رنگ بزن.



۱۱- صدای آخر کدام کلمه با بقیه فرق دارد؟ علامت × بزن.



باز خورد توصیفی آموزگار: .....

مواردی که باید در آن تمرین و آموزش داشته باشی: .....

خودسنجی: از عملکرد خود راضی هستم  نیستم  چون .....

و پاسخ به سؤال‌های ..... برایم دشوار بود.

نظر اولیا: ..... نظر همکلاسی: .....