



## هدیه‌های آسمان

(از صفحه ۱۲ تا صفحه ۷)

☆ صحیح یا غلط بودن هر یک از جمله‌های زیر را با  مشخص کن.

- غلط     صحیح    سلامتی، یکی از نعمت‌هایی است که خداوند به ما داده است.
- غلط     صحیح    بعضی از اعضای بدن، مهم‌تر از اعضای دیگر هستند.
- غلط     صحیح    همیشه باید به یاد نعمت‌هایی که خداوند به ما داده است، باشیم.
- غلط     صحیح    یکی از بهترین راه‌های تشکر از خدا، ..... اوست.

☆ در آیه «الْمَنِّ نَجْعَلُ لَهُ وَ عَيْنَيْنِ وَ لِسَانًا وَ شَفْتَيْنِ» به کدام نعمت خداوند، اشاره شده است؟

- الف) بدن سالم     ب) چشم و زبان و لب
- ج) فرزند صالح     د) طبیعت

☆ به نظر شما مهم‌ترین عضو بدن کدام است؟ چرا؟

## آموزش قرآن

(از صفحه ۱۲ تا صفحه ۵)

☆ نماز ..... دین و سفارش ..... است.

☆ عبارت «قَدْ قَامَتِ الصَّلَاةُ» به ترتیب چند بار در اذان و اقامه گفته می‌شود؟

- الف) دو بار - یک بار     ب) یک بار - دو بار
- ج) ندارد - دو بار     د) دوبار - ندارد

☆ عبارت «لا اله الا الله» یعنی چه؟

- الف) خدا بزرگ است.     ب) خدا مهربان است.
- ج) خدای بزرگ، الله است.     د) خدایی به جز الله نیست.



نیازمند تلاش بیشتر

## هفته‌ی ۱

نام: .....  
نام خانوادگی: .....

کلاس: .....  
مدرسه: .....

## ریاضی

(از صفحه ۷ تا صفحه ۱۲)

☆ صحیح یا غلط بودن هر یک از جمله‌های زیر را با  مشخص کن.

- غلط     صحیح    اگر از ۱ «سه تا سه تا» بشماریم، به عدد ۱۶ می‌رسیم.
- غلط     صحیح    ۴ وزنه‌ی ۵۰ گرمی می‌شود، ۲۵۰ گرم.
- غلط     صحیح    هر پیراهن ۵ دکمه دارد، ۶ پیراهن ۳۰ دکمه دارد.

☆ جملات زیر را کامل کن.

الف) یک هفته ۷ روز است، ۵ هفته ..... روز است.

ب) مجموع واحدهای یک ساختمان تا طبقه ۱۸ واحد است. در این ساختمان تا طبقه ..... واحد وجود دارد.

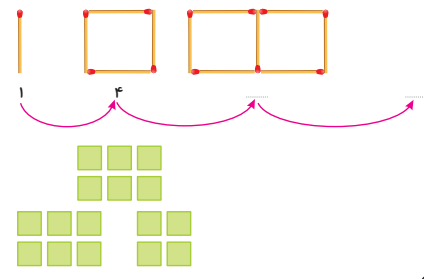
ج) اگر از عدد ۷ «چهارتا چهارتا» بشماریم، عدد هفتم در شمارش «هفت تا هفت تا» از عدد ۴، کدام عدد وجود ندارد؟

- الف) ۱۱     ب) ۱۴     ج) ۱۸     د) ۲۵

☆ مغازه‌داری مدادی را به قیمت ۷۵ تومان خرید و آن را با قیمت ۱۰۰ تومان فروخت. با سود فروش ۶۰۰۰ تومان چند مداد می‌تواند بخرد؟


- الف) ۲     ب) ۳     ج) ۱     د) ۰

☆ شکل بعدی الگوی زیر را رسم کن و الگوی عددی آن را کامل کن.



☆ شکل زیر را دسته‌بندی کن و با شمارش چندتا چندتا، تعداد آن را بدست بیاور.

۱



۴





(از صفحه ۱۰ تا صفحه ۱۵)

### فارسی

با توجه به درس «محلّه‌ی ما»، صحیح یا غلط بودن جمله‌های زیر را با  مشخص کن.

- غلط  صحیح امید و خانواده‌اش در فصل پاییز به محلّه‌ی جدید آمده بودند.
- غلط  صحیح محلّه‌ی جدید، مسجد و بوستان داشت.
- غلط  صحیح اسم محلّه‌ی جدید امید، «محلّه‌ی بهارستان» بود.
- غلط  صحیح امید در تیم فوتبال محلّه، در پست دروازه‌بانی بازی کرد.

در واژه‌های زیر، «تشدید» را در جای مناسب قرار بده.

دقت، مواد غذایی، بچه، معرفی، قنادی

واژه‌های زیر را با حروف مناسب کامل کن.

بت نام 

س	ت
ث	ح

 میمی 

ص	ن
س	ا

 نارا 

ه	ت
ح	ح

م 

غ	ع
ق	ظ

 مت 

ض	خ
ظ	ط

 رات 

ط	ت
ت	ت

با توجه به متن درس، در محلّه‌ی امید چه وسایلی را می‌توان خرید؟

$7+5+3=$   
 $4+2+6+8+1=$

الگوهای زیر را ادامه بده.

۱۵۰،۲۰۰،۲۵۰ ، ، ، ۹۹،۹۴،۸۹ ، ، ،  
 ۱،۱،۲،۴ ، ، ، ۷،۶،۸،۷، ، ، ،  
 ۱،۵،۹ ، ، ،

اگر یک مرغ در هر روز، ۴ تخم مرغ بگذارد.

الف) این مرغ در ۵ روز، چند تخم مرغ می‌گذارد؟  
ب) چند روز لازم است تا ۲۸ تخم مرغ داشته باشیم؟

جمع‌های زیر را به صورت ذهنی انجام بده.

$9+7+1=$   
 $5+4+6+5+7=$

(از صفحه ۹ تا صفحه ۱۰)

### علوم تجربی

صحیح یا غلط بودن هر یک از جمله‌های زیر را با  مشخص کن.

- غلط  صحیح برای جمع‌آوری اطلاعات می‌توانیم از دیگران بپرسیم و از پرسش‌نامه استفاده کنیم.
- غلط  صحیح تعداد سوالات پرسش‌نامه باید مناسب باشد.

جاهای خالی را با کلمه‌های مناسب پر کن.

دانش‌آموزان کلاس از روش‌های \_\_\_\_\_ و \_\_\_\_\_ برای جمع‌آوری اطلاعات استفاده کردند. ما باید اطلاعاتی را که به دست می‌آوریم \_\_\_\_\_ کنیم.

موارد مرتبط را به هم وصل کن. (یک مورد اضافی است).

- یک پژوهشگر بهتر است اول \_\_\_\_\_ خود را بنویسد.
  - دومین مرحله‌ی کار یک پژوهشگر چیست؟
  - تهیه‌ی گزارش، پس از کدام مرحله صورت می‌گیرد.
- جدول
  - پرسش
  - مرتب‌کردن اطلاعات
  - جمع‌آوری اطلاعات

اولین مرحله‌ی کار پژوهشگر برای حل مسائل علمی چیست؟

- الف) طرح سؤال
- ب) جمع‌آوری اطلاعات
- ج) تهیه‌ی گزارش
- د) تهیه‌ی جدول

برای جمع‌آوری اطلاعات از کدام منابع زیر می‌توان استفاده کرد؟

- الف) پدر و مادر
- ب) معلّم
- ج) مراجعه به کتابخانه
- د) همه‌ی موارد

دانش‌آموزان برای این‌که بدانند دوستانشان چه خوراکی‌هایی را دوست دارند با معلّم خود صحبت کردند. معلّم در پاسخ خود چه جوابی داد؟

هفته ۱





# هفته‌ی ۲

نام:  
نام خانوادگی:

نام:  
نام خانوادگی:

سه نمونه از تغییراتی که در موجود زنده به وجود می‌آید را بنویس و برای هر کدام یک مثال بزن.

- (۱)
- (۲)
- (۳)

## هدیه‌های آسمان

(از صفحه ۸ تا صفحه ۱۳)

صحیح یا غلط بودن هر یک از جمله‌های زیر را با  مشخص کن.  
بارش باران، یکی از نعمت‌هایی است که خداوند به ما داده است.  
دست‌هایم را بالا می‌برم و فقط برای خودم دعا می‌کنم.  
یکی از بهترین وقت‌ها برای دعا کردن، ..... است.

- غلط     صحیح  
 غلط     صحیح

معنای آیه‌ی ۱۱۴ سوره‌ی نحل «وَأَشْكُرُوا نِعْمَتَ اللَّهِ، چیست؟

با توجه به شعر خدایم آفریده، چه زمان‌هایی شکر خدا را به‌جا می‌آوریم؟

در برابر نعمت‌های زیادی که خدا به ما داده است، چه کاری باید انجام دهیم؟

## آموزش قرآن

(از صفحه ۶ تا صفحه ۸)

معنی آیه‌ی «صِرَاطَ الَّذِينَ أَنْعَمْتَ عَلَيْهِمْ» یعنی: راه .....  
 الف پیامبران و امامان     ب کسانی که به آنها نعمت داده‌ای.  
 ج نیکوکاران     د کسانی که گمراه شده‌اند.

معنی «اللَّهُ الصَّمَدُ» در کدام گزینه آمده است؟

- الف خدا بی‌نیاز است.     ب خدا فرزند ندارد.  
 ج خدا همتایی ندارد.     د خدا یکتاست.

## ریاضی

(از صفحه ۱۳ تا صفحه ۱۸)

صحیح یا غلط بودن هر یک از جمله‌های زیر را با  مشخص کن.  
در یک مکعب مستطیل، شکل‌های روبه‌رو با هم برابرند.  
ساعت ۵ قبل از ظهر، همان ساعت ۱۷ است.  
۵ ساعت بعد از ساعت ۹ بعدازظهر، ساعت ۱۴ است.

- غلط     صحیح  
 غلط     صحیح  
 غلط     صحیح

جاهای خالی را کامل کن.

محمد تا ساعت ۱۸ به مدت ۲ ساعت در پارک بود، او ساعت ..... بعدازظهر وارد پارک شده بود.  
 یک مکعب مربع، از ..... مربع ساخته شده است.  
 یک شبانه‌روز، ..... ساعت است.

در شکل روبه‌رو چند مکعب مربع وجود دارد؟

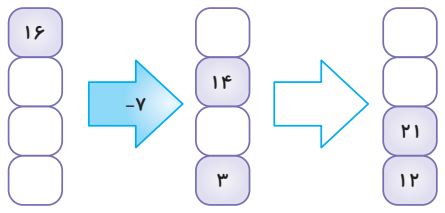
- الف ۳ مکعب     ب ۴ مکعب  
 ج ۹ مکعب     د ۵ مکعب



عدد خروجی کدام ماشین از بقیه کمتر است؟



- الف  $+17$      ب  $-17$      ج  $-16$      د  $+11$   
 الف  $12$      ب  $52$      ج  $49$      د  $24$

جاهای خالی را کامل کن.



۱

۴



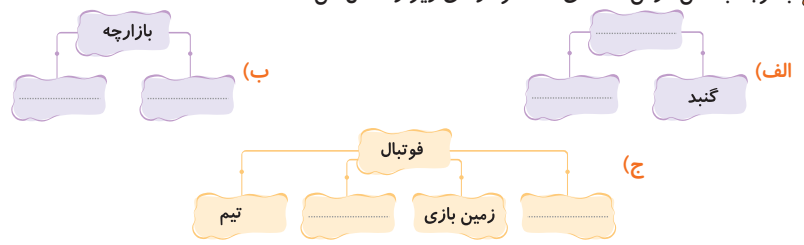


☆ علی از ساعت ۹ قبل از ظهر تا ساعت ۳ بعد از ظهر برای درس خواندن به کتابخانه رفت. علی چند ساعت در کتابخانه بود؟

### فارسی

(از صفحه ۱۶ تا صفحه ۱۹)

☆ با توجه به متن درس «محلّه‌ی ما»، نمودارهای زیر را کامل کن.



☆ با هر یک از واژه‌های زیر یک جمله بساز.

اطراف: .....

قطعات: .....

موجودات: .....

وسایل: .....

☆ همه‌ی واژه‌های تمرین بالا جمع هستند. مفرد آنها را بنویس.

اطراف ← قطعات

موجودات ← وسایل

### مطالعات اجتماعی

(از صفحه ۱۴ تا صفحه ۱۷)

☆ صحیح یا غلط بودن هر یک از جمله‌های زیر را با  مشخص کن.

کودکان دو یا سه ساله با اسباب‌بازی‌های نرم و پلاستیکی بازی می‌کنند.  صحیح  غلط

اشیاء بی‌جان هم مانند موجودات زنده، رشد می‌کنند.  صحیح  غلط

☆ به تغییراتی که در موجودات زنده به‌وجود می‌آید، ..... می‌گویند.

☆ جدول زیر را با وصل کردن هر کار به زمان مربوط به آن کامل کن. (با توجه به شرایط اکنون خودت)

بازی‌های مختلف را انجام می‌دهم.	<input type="radio"/>	گذشته
در دانشگاه درس می‌خوانم.	<input type="radio"/>	حال
مادر به من غذا می‌دهد.	<input type="radio"/>	آینده
می‌توانم رانندگی کنم.	<input type="radio"/>	گذشته
نمی‌توانم به تنهایی از سرویس بهداشتی استفاده کنم.	<input type="radio"/>	حال
می‌توانم بخوانم و بنویسم.	<input type="radio"/>	آینده

☆ پزشک برای بیماری فاطمه، قرصی به او داد. روی قرص نوشته شده بود: هر ۶ ساعت یک عدد. اگر فاطمه ساعت ۱۰ صبح یک قرص بخورد، قرص بعدی را در چه ساعتی باید بخورد؟

### علوم تجربی

(از صفحه ۱۱ تا صفحه ۱۲)

☆ صحیح یا غلط بودن هر یک از جمله‌های زیر را با  مشخص کن.

پژوهشگر پس از جمع‌آوری اطلاعات به رسم جدول‌های مناسب می‌پردازد. صحیح  غلط

مرتب کردن اطلاعات پس از تهیه‌ی گزارش است. صحیح  غلط

☆ جاهای خالی را با کلمه‌های مناسب پر کن.

برای نوشتن یک سؤال اولین قدم ..... آن است.

تهیه‌ی جدول پس از ..... است.

☆ بهتر است اطلاعات به‌دست آمده را در ..... مرتب کنیم.

<input type="radio"/> الف	جدول	<input type="radio"/> ب	نمودار
<input type="radio"/> ج	دفتر	<input type="radio"/> د	تخته وایتبرد

☆ کاری که دانش‌آموزان کلاس برای جمع‌آوری اطلاعات انجام دادند، شبیه کار چه کسی است؟

<input type="radio"/> الف	پژوهشگر	<input type="radio"/> ب	دانشمند
<input type="radio"/> ج	فیلسوف	<input type="radio"/> د	همه‌ی موارد

☆ می‌توانیم در مورد تغذیه‌ی مناسب سؤال‌هایمان را از چه کسانی بپرسیم؟

☆ مراحل کار یک پژوهشگر را بنویس.

☆ پدر و مادرها چه خوراکی‌هایی را برای زنگ تفریح بچه‌ها مناسب می‌دانند؟ چند نمونه نام ببر.

